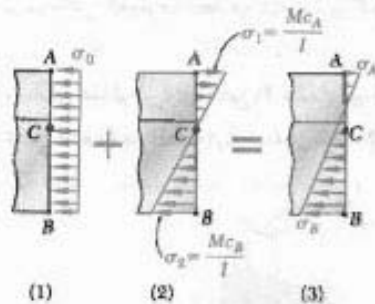



با انتخاب مقدار کوچکتر، تنش‌های حاصل از تنش مجاز بیشتر نمی‌شوند. در نتیجه،

$$P = 77,0 \text{ kN} \leftarrow$$



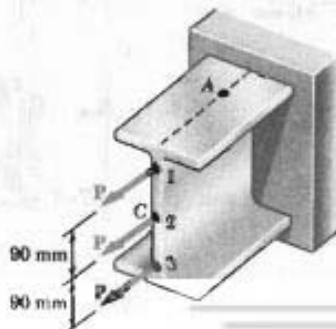
### مسائل

۹۹-۴ دو نیروی P را به طور جداگانه یا همزمان می‌توان بر ورقی که به میله توپر استوانه‌ای به شعاع r جوش شده است وارد کرد. مطلوبست ماکزیمم تنش فشاری در میله استوانه‌ای: (الف) وقتی هر دو نیرو وارد شوند، (ب) وقتی یکی از نیروها وارد شود.



شکل ۴-۹۹

۱۰۰-۴ سه بار محوری، هر یک با مقدار  $P = 50 \text{ kN}$ ، را بر انتهای تیر فولادی نورد  $W 200 \times 31,1$  می‌توان وارد کرد. مطلوبست تنش در نقطه A: (الف) برای بارگذاری نشان داده شده، (ب) برای وقتی که بارها فقط در نقاط ۱ و ۲ وارد شوند.



شکل ۴-۱۰۰ و ۴-۱۰۱

نیرو و کوپل در C، نیروی P را با سیستم نیرو و کوپل معادل در مرکز سطح C جایگزین می‌کنیم

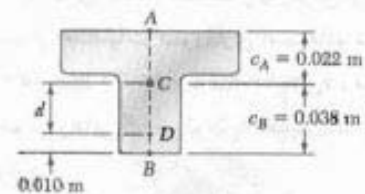
$$P = P \quad M = P(d) = P(0,7028 \text{ m}) = 0,7028 P$$

نیروی P وارد بر مرکز سطح باعث توزیع تنش یکنواخت می‌شود (شکل ۱) و کوپل خمشی M باعث توزیع تنش خطی می‌شود (شکل ۲).

$$\sigma_0 = \frac{P}{A} = \frac{P}{3 \times 10^{-7}} = 333 P \text{ (فشاری)}$$

$$\sigma_1 = \frac{Mc_A}{I} = \frac{(0,7028 P)(0,7022)}{868 \times 10^{-9}} = 710 P \text{ (کششی)}$$

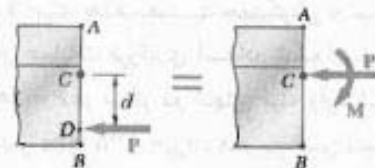
$$\sigma_2 = \frac{Mc_B}{I} = \frac{(0,7028 P)(0,7028)}{868 \times 10^{-9}} = 1226 P \text{ (فشاری)}$$



ترکیب، با ترکیب توزیع تنش‌های ناشی از بار مرکزی P و کوپل خمشی M، توزیع تنش کل به دست می‌آید (شکل ۳). چون کشش مثبت است و فشار منفی است، می‌نویسیم:

$$\sigma_A = -\frac{P}{A} + \frac{Mc_A}{I} = -333 P + 710 P = +377 P \text{ (کششی)}$$

$$\sigma_B = -\frac{P}{A} - \frac{Mc_B}{I} = -333 P - 1226 P = -1559 P \text{ (فشاری)}$$



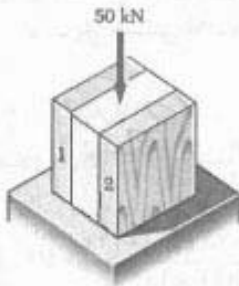
ماکزیمم بار مجاز، برای تعیین مقدار P، که به ازای آن تنش کششی در نقطه A مساوی  $30 \text{ MPa}$  است، می‌نویسیم:

$$\sigma_A = 377 P = 30 \text{ MPa} \Rightarrow P = 79,6 \text{ kN} \leftarrow$$

برای تعیین مقدار P، که به ازای آن تنش در B مساوی تنش مجاز فشاری  $120 \text{ MPa}$  است، می‌نویسیم:

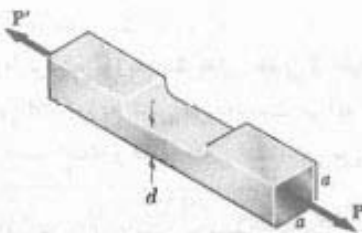
$$\sigma_B = -1559 P = -120 \text{ MPa} \Rightarrow P = 77,0 \text{ kN} \leftarrow$$

مطلوبست ماکزیم تنش فشاری در ستون پس از اعمال بار  $50 \text{ kN}$  در مرکز قسمت بالایی ستون در صورتی که: (الف) ستون به صورت گت شده باشد، (ب) قطعه ۱ حذف شود، (ج) قطعات ۱ و ۲ حذف شوند.



شکل م ۱۰۵-۴

برای حذف قسمت چهارگوش از میله توپر نشان داده شده، از عملیات فرزکاری استفاده شده است. اگر  $\sigma_{all} = 6 \text{ MPa}$  و  $d = 20 \text{ mm}$ ،  $a = 30 \text{ mm}$  مقدار ماکزیم نیروهایی که می توان با اطمینان در مراکز دو انتهای میله وارد کرد.



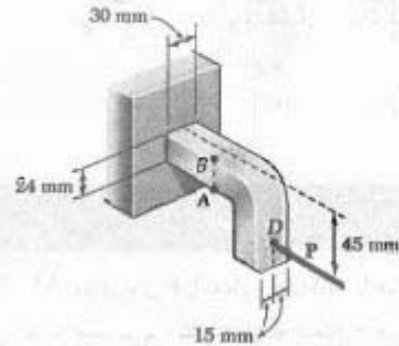
شکل م ۱۰۶-۴ و م ۱۰۷-۴

برای حذف قسمت چهارگوش از میله توپر نشان داده شده، از عملیات فرزکاری استفاده شده است. نیروها با مقدار  $P = 18 \text{ kN}$  در مراکز دو انتهای میله وارد شده اند. اگر  $\sigma_{all} = 125 \text{ MPa}$  و  $a = 30 \text{ mm}$  کمترین عمق مجاز  $d$  قسمت فرز شده را بیابید.

چهار نیروی نشان داده شده بر صفحه صلبی که توسط تیر توپر فولادی با شعاع  $a$  نگه داشته شده است وارد می شود. مطلوبست تنش ماکزیم در تیر وقتی: (الف) تمام چهار نیرو وارد شوند، (ب) نیرو در  $D$  حذف شود، (ج) نیروها در  $C$  و  $D$  حذف شوند.

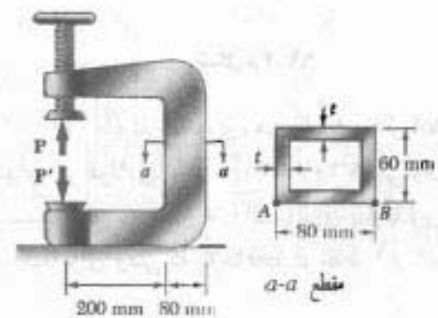
۱-۱-۴ سه بار محوری، هر یک با مقدار  $P = 50 \text{ kN}$ ، را بر انتهای تیر فولادی نوود  $W 200 \times 31.1$  می توان وارد کرد. مطلوبست تنش در نقطه  $A$ : (الف) برای بارگذاری نشان داده شده، (ب) برای وقتی که بارها فقط در نقاط ۲ و ۳ وارد شوند.

۱-۲-۴ اگر مقدار نیروی افقی  $P$  مساوی  $8 \text{ kN}$  باشد، مطلوبست تنش: (الف) در نقطه  $A$ ، (ب) در نقطه  $B$ .



شکل م ۱۰۲-۴

قسمت عمودی پرس نشان داده شده، از یک لوله مستطیلی با ضخامت دیواره  $t = 10 \text{ mm}$  تشکیل شده است. اگر پرس را روی قطعات چوبی که چسب خورده اند تا نیروی  $P = 20 \text{ kN}$  سفت کنیم، (الف) تنش در نقطه  $A$ ، (ب) تنش در نقطه  $B$  را بیابید.



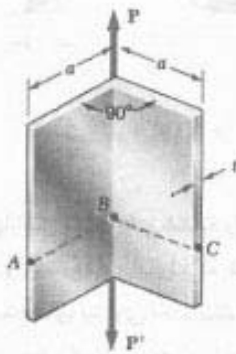
شکل م ۱۰۳-۴

۱۰۴-۴ مسئله ۱۰۳-۴ را برای  $t = 8 \text{ mm}$  حل کنید.

۱۰۵-۴ با میخ کردن در قطعه چوبی  $25 \times 100 \text{ mm}$  به قطعه چوبی  $50 \times 100 \text{ mm}$ ، ستون کوتاهی ساخته شده است.

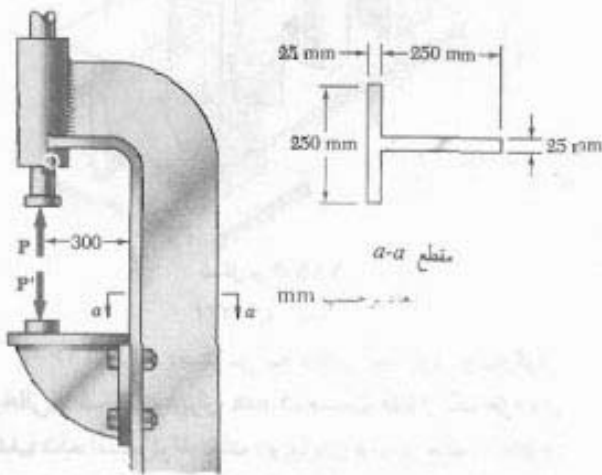
۱۱۱-۴ لوله فلزی با قطر خارجی ۱۸ mm و ضخامت دیواره ۲ mm باید دارای انحراف  $h$  باشد. اگر بدانیم که تنش ماکزیم پس از ایجاد انحراف نباید از ۴ برابر تنش در لوله مستقیم بیشتر باشد، ماکزیم انحراف مورد استفاده را بیابید.

۱۱۲-۴ عضو نشان داده شده از خم کردن یک ورق نازک فولادی به وجود آمده است. اگر ضخامت  $t$  در مقایسه با طول  $a$  این عضو کوچک باشد، مطلوب است: (الف) تنش در  $A$ ، (ب) تنش در  $B$ ، (ج) تنش در  $C$ .

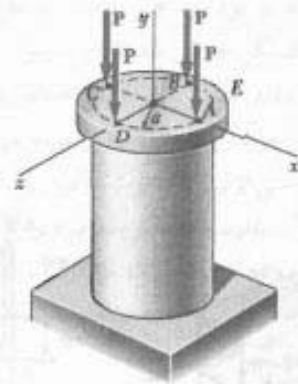


شکل م ۱۱۲-۴

۱۱۳-۴ اگر تنش مجاز در مقطع  $a-a$  از پرس هیدرولیکی نشان داده شده در کشش و فشار، به ترتیب،  $40 \text{ MPa}$  و  $80 \text{ MPa}$  باشد، ماکزیم نیروی  $P$  را که می توان بر پرس وارد کرد بیابید.

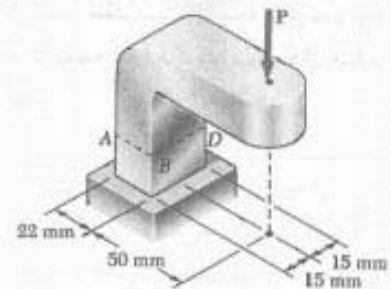


شکل م ۱۱۳-۴



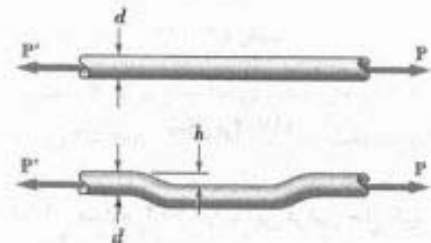
شکل م ۱۰۸-۴

۱۰۹-۴ اگر تنش مجاز در مقطع  $ABCD$  برابر با  $70 \text{ MPa}$  باشد، ماکزیم نیروی  $P$  را که می توان بر براکت نشان داده شده وارد کرد بیابید.



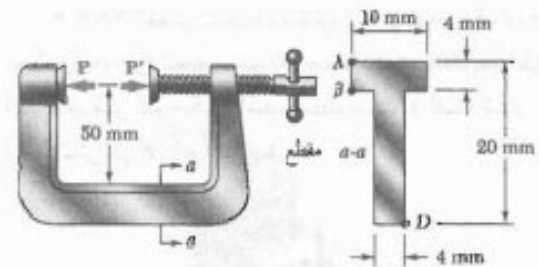
شکل م ۱۰۹-۴

۱۱۰-۴ میله توپر دایره ای به قطر  $d$  باید دارای انحراف  $h$  باشد. اگر بدانیم که تنش ماکزیم پس از ایجاد انحراف نباید از ۴ برابر تنش در میله مستقیم بیشتر باشد، ماکزیم انحراف مورد استفاده را بیابید.



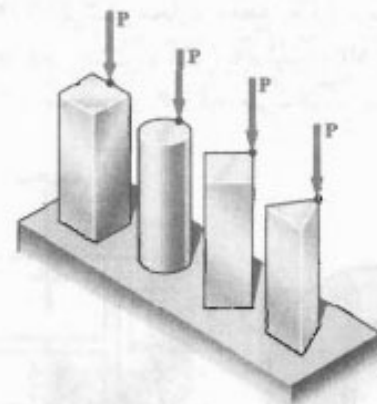
شکل م ۱۱۰-۴ و ۱۱۱-۴

۱۱۴-۴ اگر گیره نشان داده شده روی قطعات چوبی چسب خورده تا نیروی  $P = 400 \text{ N}$  سفت شود، در مقطع  $a-a$  مطلوبست: (الف) تنش در نقطه  $A$ ، (ب) تنش در نقطه  $D$ ، (ج) مکان محور خنثی.



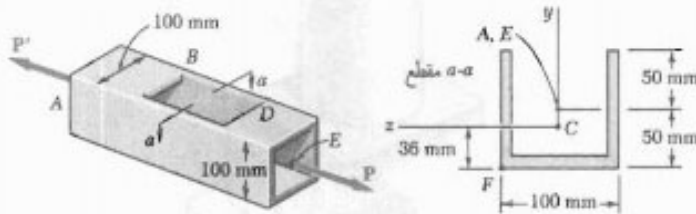
شکل م ۴-۱۱۴

۱۱۵-۴ چهار بار نشان داده شده دارای مساحت مقطع عرضی یکسانند. برای بارگذاری‌های داده شده، نشان دهید که: (الف) ماکزیمم تنش‌های فشاری به نسبت  $4:5:7:9$  هستند. (ب) ماکزیمم تنش‌های کششی به نسبت  $2:3:5:3$  هستند. (راهنمایی: مقطع عرضی میله به صورت مثلث متساوی‌الاضلاع است.)



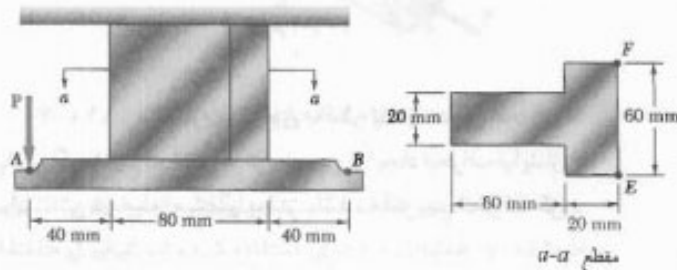
شکل م ۴-۱۱۵

۱۱۶-۴ برای دسترسی به داخل یک لوله چهارگوش توخالی با ضخامت دیواره  $6 \text{ mm}$ ، قسمت  $CD$  از یک طرف آن حذف شده است. لوله تحت دو نیروی برابر و متضاد  $60 \text{ kN}$  قرار می‌گیرد. این نیروها در مراکز هندسی  $A$  و  $E$  دو انتهای لوله وارد می‌شوند. مطلوبست: (الف) تنش ماکزیمم در مقطع  $a-a$ ، (ب) تنش در نقطه  $F$  داده: مرکز سطح مقطع عرضی در نقطه  $C$  است و  $I_x = 2 \times 10^6 \text{ mm}^4$ .



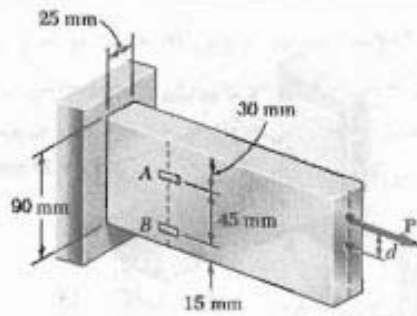
شکل م ۴-۱۱۶

۱۱۷-۴ اگر تنش مجاز در مقطع  $a-a$  آویز نشان داده شده  $150 \text{ MPa}$  باشد، مطلوبست: (الف) ماکزیمم نیروی عمودی  $P$  که می‌توان در نقطه  $A$  وارد کرد، (ب) مکان متناظر محور خنثی مقطع  $a-a$ .



شکل م ۴-۱۱۷

۱۱۸-۴ مسئله ۴-۱۷ را با این فرض حل کنید که نیروی عمودی  $P$  در نقطه  $B$  وارد شود.



شکل م-۱۲۱

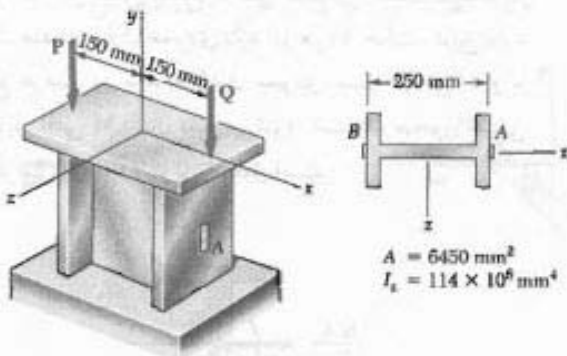
۱۲۲-۴ مسئله ۱۲۱-۴ را با فرض زیر حل کنید:

$$\epsilon_A = +600 \mu \quad \epsilon_B = +420 \mu$$

۱۲۳-۴ طول کوتاهی از ستون فولادی نورد شده یک صفحه صلب را نگه می‌دارد. بارهای P و Q، مطابق شکل، بر این صفحه وارد شده‌اند. کرنش‌ها در دو نقطه A و B روی خطوط مرکزی وجوه خارجی بال‌ها به صورت زیر هستند:

$$\epsilon_A = -400 \times 10^{-6} \text{ mm/mm} \quad \epsilon_B = -300 \times 10^{-6} \text{ mm/mm}$$

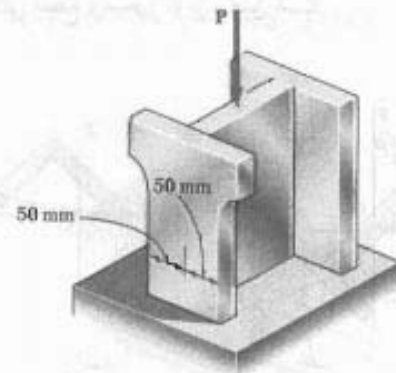
اگر  $E = 29 \times 10^4 \text{ psi}$ ، مقدار هر بار را بیابید.



شکل م-۱۲۳

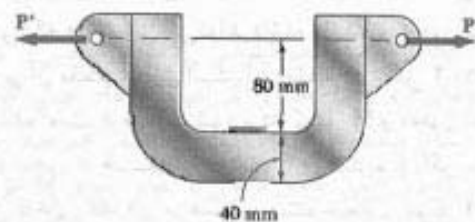
۱۲۴-۴ نیروی محوره، خارج از مرکز P، که در نقطه B وارد می‌شود، باید ۲۵ mm زیر سطح بالایی میله فولادی نشان داده شده باشد. برای  $P = 60 \text{ kN}$ ، مطلوبست: (الف) عمق d میله که به‌زای آن تنش‌های کششی در نقطه A ماکزیمم است، (ب) تنش متناظر در نقطه A.

۱۱۹-۴ سه صفحه فولادی، هر یک با مقطع عرضی  $25 \times 150 \text{ mm}$ ، به یکدیگر جوش شده‌اند و ستون کوتاه به شکل H را تشکیل داده‌اند. سپس، به دلایل معماری، نواری به عرض ۲۵ mm از هر طرف یکی از بال‌ها درآورده می‌شود. اگر بار نسبت به مقطع عرضی اولیه به صورت مرکزی بماند، و تنش مجاز  $100 \text{ MPa}$  باشد، مطلوبست ماکزیمم نیروی P: (الف) که می‌تواند بر ستون اولیه وارد کرد، (ب) که می‌توان بر ستون تغییر یافته وارد کرد.



شکل م-۱۱۹

۱۲۰-۴ برای تعیین مقدار نیروهای نشان داده شده، از میله فولادی C شکل استفاده می‌شود. اگر مقطع عرضی میله به صورت چهارگوش به ضلع ۴۰ mm، و کرنش در لبه داخلی  $E = 200 \text{ GPa}$  باشد، مقدار P را بیابید. از  $E = 200 \text{ GPa}$  استفاده کنید.



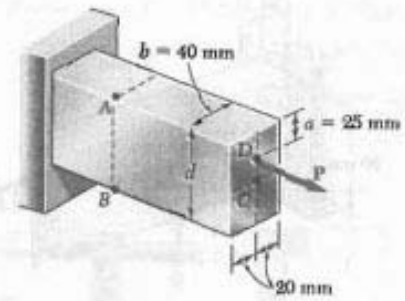
شکل م-۱۲۰

۱۲۱-۴ نیروی محوری خارج از مرکز P، مطابق شکل، بر میله فولادی با مقطع عرضی  $25 \text{ mm} \times 90 \text{ mm}$  وارد شده است. کرنش‌ها در A و B به صورت زیر هستند

$$\epsilon_A = +350 \mu \quad \epsilon_B = -70 \mu$$

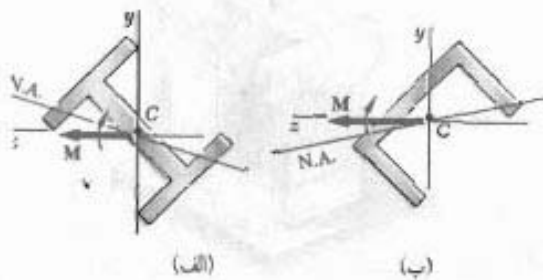
اگر  $E = 200 \text{ GPa}$ ، مطلوبست: (الف) فاصله d، (ب) مقدار نیروی P.

اکنون، حالت‌هایی را در نظر می‌گیریم که در آن کویل‌های خمشی در صفحه تقارن عضو اثر نمی‌کنند، یا اینکه عضو صفحه تقارن ندارد. در این موارد، نمی‌توان فرض کرد که عضو در صفحه کویل‌ها خم می‌شود. این موضوع در شکل ۴-۵۶ نشان داده شده است. در هر قسمت شکل، فرض شده است کویل وارد بر مقطع در یک صفحه عمودی اثر می‌کند و یا بردار کویل افقی  $M$  نشان داده شده است. البته، چون صفحه عمودی صفحه تقارن نیست، نمی‌توان گفت عضو در آن صفحه خم می‌شود، یا محور خشی مقطع بر محور کویل منطبق است.



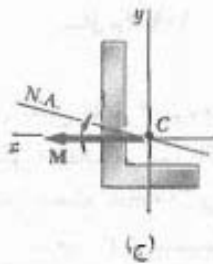
شکل م ۴-۱۲۴

۱۶۵-۴ در مسئله ۴-۱۲۴، مطلوب است: (الف) عمق  $d$  میله که به‌زای آن تنش فشاری در نقطه  $B$  ماکزیمم است. (ب) تنش منظر در نقطه  $B$ .



(الف)

(ب)



(ج)

شکل ۴-۵۶

می‌خواهیم شرایطی را بیابیم که در آن محور خشی مقطع عرضی، که هر شکلی می‌تواند داشته باشد، بر محور کویل  $M$  مؤثر بر آن مقطع منطبق است. این مقطع در شکل ۴-۵۷ نشان داده شده است. فرض می‌شود بردار کویل  $M$  و محور خشی در امتداد محور  $z$  هستند. در قسمت ۲-۲ دیدیم که اگر نیروهای جزئی داخلی  $\sigma_x dA$  را بر حسب سیستم معادل کویل  $M$  بیان کنیم، خواهیم داشت:

$$\int \sigma_x dA = 0 \quad (۱-۴) \quad \text{در امتداد } x$$

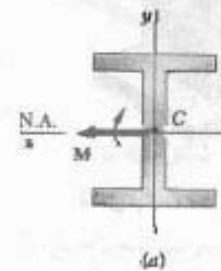
$$\int z \sigma_x dA = 0 \quad (۲-۴) \quad \text{لنگر نسبت به محور } y$$

$$\int (-y \sigma_x dA) = M \quad (۳-۴) \quad \text{لنگر نسبت به محور } z$$

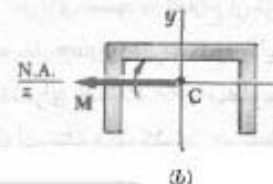
قبلاً دیدیم که وقتی تنش‌ها کمتر از حد تناسب‌اند، طبق معادله (۱-۴) محور خشی یک محور گذرا از مرکز سطح است، و

### ۱۳-۴ خمش نامتقارن

تا به حال، فقط خمش خالص عضوهایی را بررسی کرده‌ایم که حداقل یک صفحه تقارن دارند. تحت کویل‌هایی که در آن صفحه اثر می‌کنند قرار می‌گیرند. در قسمت ۳-۲ دیدیم که این عضوها نسبت به صفحه کویل‌ها متقارن می‌مانند و در آن صفحه خم می‌شوند. شکل ۴-۵۵ الف مقطع عرضی عضوی را نشان می‌دهد که دو صفحه تقارن دارد، یکی عمودی و دیگری افقی، و قسمت (ب) این شکل مقطع عرضی عضوی را نشان می‌دهد که فقط یک صفحه تقارن عمودی دارد. در هر دو حالت، کویل وارد بر مقطع عرضی در صفحه تقارن عمودی عضو اثر می‌کند و با بردار کویل افقی  $M$  نشان داده می‌شود؛ ضمناً، محور خشی مقطع عرضی بر محور کویل منطبق است.



(ا)



(ب)

شکل ۴-۵۵

