

۱- با استفاده از ضریب آرایه یک آرایه دو عنصری پهلوآتش (broadside) با دامنه جریان یکسان و عناصر نقطه‌ای، نشان دهید که عبارت سمت‌گرایی به صورت زیر خواهد بود:

$$D = \frac{2}{1 + (\sin \beta d) / \beta d}$$

(حل) برای آرایه دو عنصری با فرض اینکه روی محور Z قرار گرفته باشند، و در حالت پهلوآتش ( $\alpha = 0$ ) باشند، می‌توان ضریب آرایه را به صورت زیر به دست آورد.

$$AF = |1 + e^{j\psi}| = \cos \frac{\psi}{2}$$

$$\text{Broadside: } \alpha = 0 \rightarrow \psi = \beta d \cos \theta + \alpha = \beta d \cos \theta$$

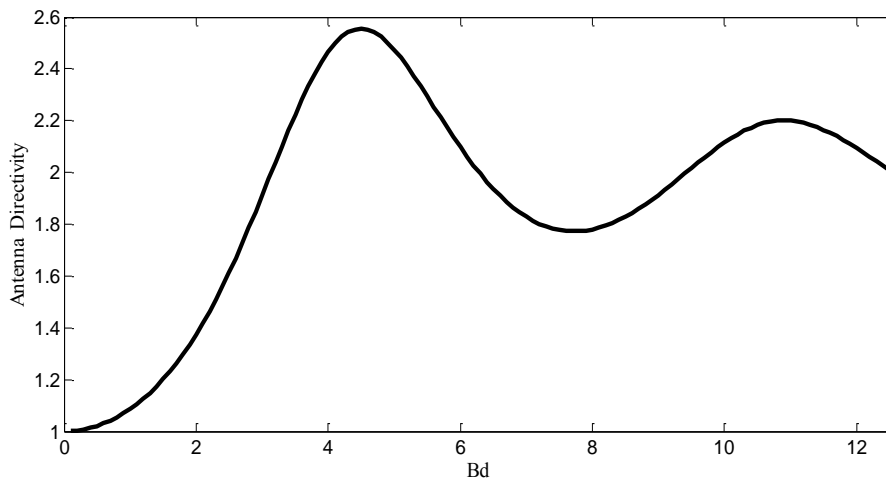
برای به دست آوردن سمت‌گرایی آنتن ابتدا زاویه فضایی تابع را محاسبه می‌کنیم.

$$\begin{aligned} \Omega_A &= \int_0^{2\pi} \int_0^\pi |F(\theta)|^2 \sin \theta d\theta d\phi = \int_0^{2\pi} d\phi \int_{\beta d}^{-\beta d} \cos^2 \frac{\psi}{2} \frac{-d\psi}{\beta d} \\ &= \frac{1}{\beta d} (2\pi) \int_{-\beta d}^{\beta d} \frac{1}{2} (1 + \cos \psi) d\psi = \frac{\pi}{\beta d} [\psi + \sin \psi]_{-\beta d}^{\beta d} \\ &= \frac{\pi}{\beta d} [2\beta d + 2 \sin \beta d] = 2\pi \left( 1 + \frac{\sin \beta d}{\beta d} \right) \end{aligned}$$

بنابراین سمت‌گرایی مطابق رابطه زیر حاصل می‌شود

$$D = \frac{4\pi}{\Omega_A} = \frac{2}{1 + \frac{\sin \beta d}{\beta d}}$$

سمت‌گرایی به دست آمده به صورت تابعی از  $\beta d$  در شکل زیر رسم شده است.



برای اینکه سمت‌گرایی این آرایه دو عنصری ماکزیمم باشد باید داشته باشیم:

$$\beta d = 4.5 \rightarrow d = \frac{4.5}{2\pi / \lambda} = 0.7162\lambda$$

با این فاصله بین عناصر سمت گرایبی برابر ۲/۵۵ خواهد بود.

۲- عبارت پهنای تابۀ نصف توان (HPBW) مربوط به ضریب آرایه یک آرایه خطی با فاصله گذاری یکسان و تحریک یکنواخت، را می توان توسط رابطه تقریبی زیر که برای  $Nd \gg \lambda$  برقرار است، بیان نمود.

$$HP \approx K \frac{\lambda}{Nd}$$

K را برای 20, N=10 به دست آورید.

حل) نقاط نصف توان  $\psi$  را می توان به صورت زیر محاسبه نمود:

$$f(\psi_{HP}) = \frac{1}{\sqrt{2}} = \frac{1}{N} \frac{\sin\left(\frac{N\psi_{HP}}{2}\right)}{\sin\left(\frac{\psi_{HP}}{2}\right)}$$

برای N=10 به معادله زیر می رسیم:

$$\sin(5\psi_{HP}) = \frac{10}{\sqrt{2}} \sin\left(\frac{\psi_{HP}}{2}\right)$$

با حل رابطه فوق به صورت عددی (با دستور Solve ماشین حساب) داریم:

$$\psi_{HP} = \pm 0.279523$$

بنابراین پهنای تابۀ نصف توان به صورت زیر محاسبه میشود:

$$\psi_{HP} = \beta d \cos \theta_{HP} = \pm 0.279523 \rightarrow \theta_{HP} = \cos^{-1}\left(\pm \frac{0.088975\pi}{2\pi / \lambda}\right) = \cos^{-1}\left(\pm 0.0444875 \frac{\lambda}{d}\right)$$

$$\rightarrow \theta_{HP} \approx 1 \mp 0.0444875 \frac{\lambda}{d} \rightarrow HPBW = 2 \times 0.0444875 \frac{\lambda}{d} = 0.088975 \frac{\lambda}{d} = 0.88975 \frac{\lambda}{Nd}$$

بنابراین مقدار K با توجه به رابطه داده شده در صورت مسئله برابر خواه بود با K=088975. به طریق

مشابه برای N=20 داریم:

$$N = 20 \rightarrow \sin(10\psi_{HP}) = \frac{20}{\sqrt{2}} \sin\left(\frac{\psi_{HP}}{2}\right) \rightarrow \psi_{HP} = 0.1393$$

$$\theta_{HP} = \cos^{-1}\left(\pm \frac{0.04434\pi}{2\pi d / \lambda}\right) = \cos^{-1}\left(\pm \frac{0.04434}{2} \frac{\lambda}{d}\right)$$

$$HPBW \approx 2\left(\frac{0.04434}{2} \frac{\lambda}{d}\right) = 0.04434 \frac{\lambda}{d} \stackrel{N=20}{=} 0.8868 \frac{\lambda}{Nd}$$

بنابراین برای N=20 مقدار K برابر خواهد بود با K=0.8868. بنابراین همانطور که برای این دو مقدار

N مشاهده شد، هرچه N افزایش یابد به رابطه تقریبی بیان شده در درس که به صورت زیر می رسیم:

$$HPBW = 0.886 \frac{\lambda}{Nd}$$

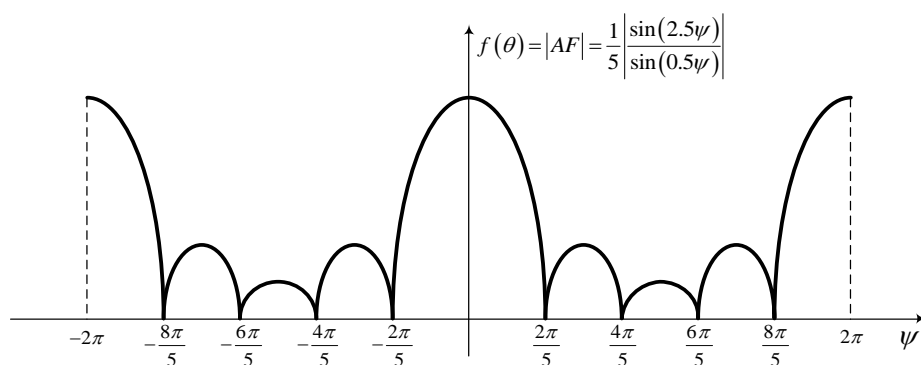
۳- یک آرایه پنج عنصری خطی با فاصله‌گذاری یکسان و تحریک یکنواخت با

الف) گلبزرگ اصلی در جهت پهلوآتش (broadside)

ب) ماکزیمم گلبزرگ اصلی در زاویه ۴۵ درجه نسبت به broadside

طراحی کنید. فاصله عناصر و شیفت فاز را چنان انتخاب کنید که پهنای تابۀ تا حد ممکن کوچک بوده و هیچ بخشی از لوب‌های کناری در ناحیه مرئی (visible region) ظاهر نشوند.

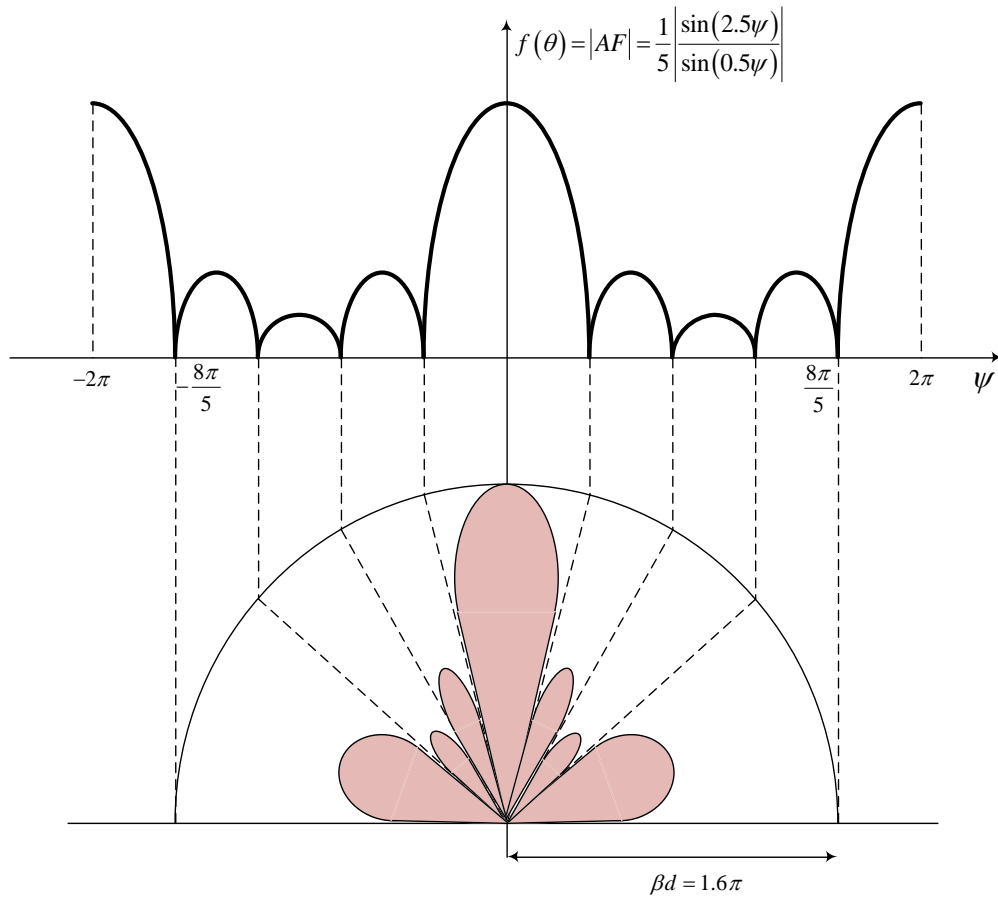
حل) همانطور که در مسئله قبل دیدیم پهنای تابۀ متناسب است با  $\lambda / Nd$ ، بنابراین برای اینکه پهنای تابۀ تا حد ممکن کوچک باشد باید  $\beta d$  را تا حد ممکن (حالتی که گلبزرگ‌های کناری ظاهر نشوند) بزرگ انتخاب کنیم. برای یک آرایه ۵ عنصری ضریب آرایه به صورت زیر خواهد بود.



الف) با توجه به شکل فوق در حالت broadside ( $\alpha = 0$ ) برای اینکه لوب کناری نداشته باشیم و همزمان  $\beta d$  ماکزیمم باشد، باید داشته باشیم:

$$\beta d = \frac{8\pi}{5} = 1.6\pi \rightarrow d = \frac{1.6\pi}{2\pi / \lambda} = 0.8\lambda$$

این حالت در شکل زیر نشان داده شده است:



ب) برای اینکه لوب اصلی در زاویه ۴۵ درجه باشد، باید داشته باشیم:

$$\alpha = -\beta d \cos \theta_0 = -\frac{\beta d}{\sqrt{2}} \quad (1)$$

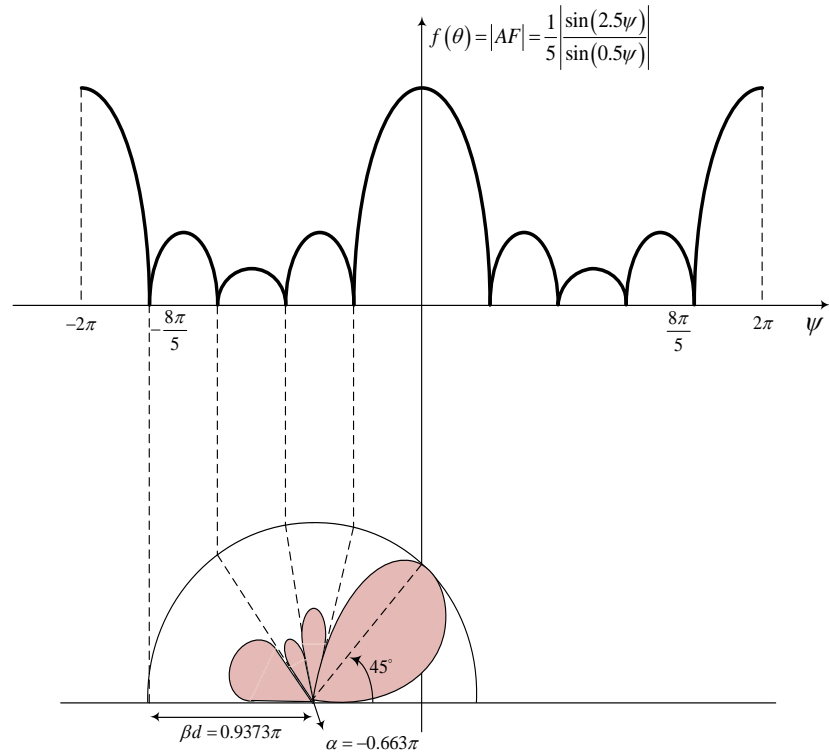
از طرفی برای اینکه هیچ قسمتی از لوب‌های دیگر در ناحیه مرئی وجود نداشته باشد، باید داشته باشیم:

$$\alpha - \beta d = -1.6\pi \quad (2)$$

بنابراین با حل (۱) و (۲) داریم:

$$\begin{cases} \alpha = -\frac{\beta d}{\sqrt{2}} \\ \alpha - \beta d = -1.6\pi \end{cases} \Rightarrow \begin{cases} \beta d = 0.9373\pi \rightarrow d = 0.469\lambda \\ \alpha = \frac{-\beta d}{\sqrt{2}} = -0.663\pi \end{cases}$$

این حالت در شکل زیر نشان داده شده است:



۴- یک آرایه خطی ۵ تایی از عناصر ایزوتروپیک به صورت سرآتش (endfire) معمولی طراحی کنید.

حل) برای آرایه endfire معمولی فاصله بین عناصر به صورت زیر به دست می آید:

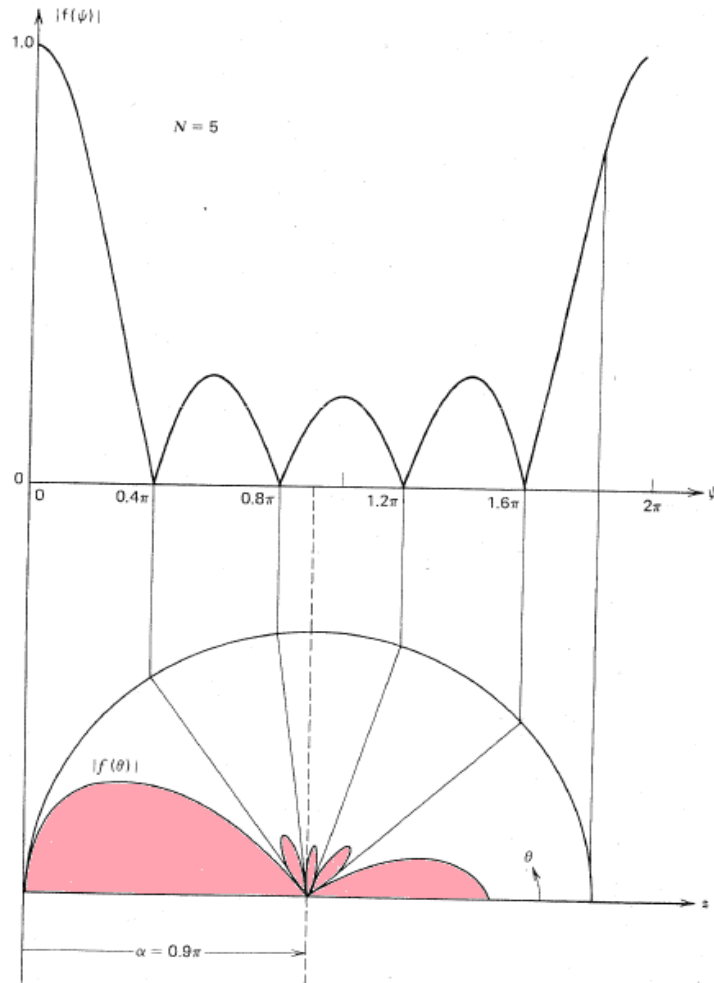
$$d \leq \frac{\lambda}{2} \left( 1 - \frac{1}{2N} \right) = \frac{\lambda}{2} \left( 1 - \frac{1}{10} \right) = 0.45\lambda \rightarrow d = 0.45\lambda$$

همچنین برای endfire بودن آرایه باید گلبرگ اصلی در جهت  $\theta_0 = 0, 180$  باشد، با فرض اینکه

گلبرگ در جهت  $\theta_0 = 180^\circ$  باشد، داریم:

$$\alpha = -\beta d \cos \theta_0 = -\frac{2\pi}{\lambda} 0.45\lambda \cos 180 = 0.9\pi$$

بنابراین پترن آنتن به صورت زیر است:



۵- یک آرایه خطی با استفاده از ۵ عنصر ایزوتروپیک و به صورت هانس-وودیارد با  $d = 0.35\lambda$  طراحی کنید. پترن آرایه را نیز رسم کنید.

حل) با توجه به روابط هانس-وودیارد باید داشته باشیم:

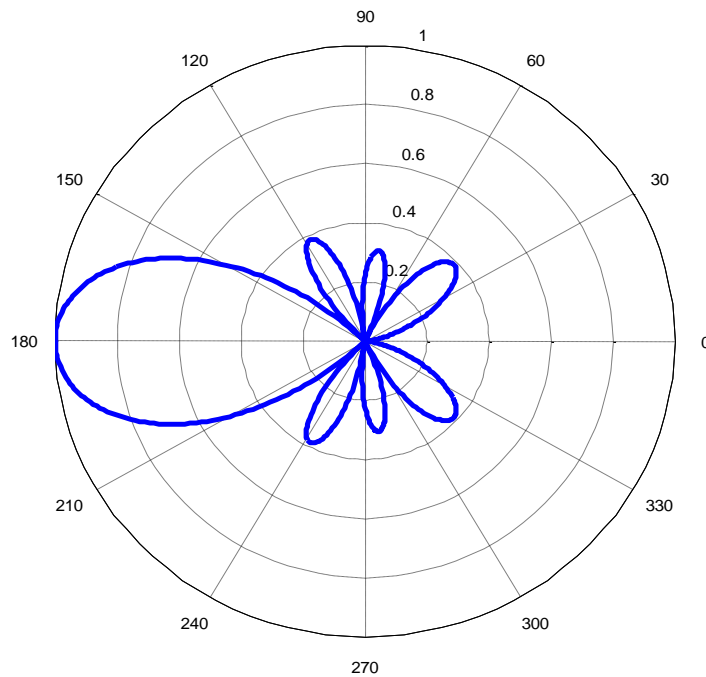
$$d \leq \frac{\lambda}{2} \left(1 - \frac{1}{N}\right) = \frac{\lambda}{2} \left(1 - \frac{1}{5}\right) = 0.4\lambda$$

که با توجه به  $d$  داده شده، برقرار است. از طرفی برای فاز عناصر هم باید داشته باشیم:

$$\alpha = \pm \left( \beta d + \frac{\pi}{N} \right) = \pm \left( \frac{2\pi}{\lambda} 0.35\lambda + \frac{\pi}{5} \right) = \pm 0.9\pi$$

$$\text{if } \theta_0 = 180 \rightarrow \alpha = 0.9\pi$$

بنابراین پترن آرایه به صورت زیر خواهد بود.



۶- یک آرایه خطی ۱۰ عنصری با استفاده از عناصر ایزوتروپیک و به صورت هانس-وود یارد با  $d = 0.4\lambda$  طراحی کنید و پترن آن را رسم کنید.  
 حل) با توجه به روابط هانس-وود یارد باید داشته باشیم:

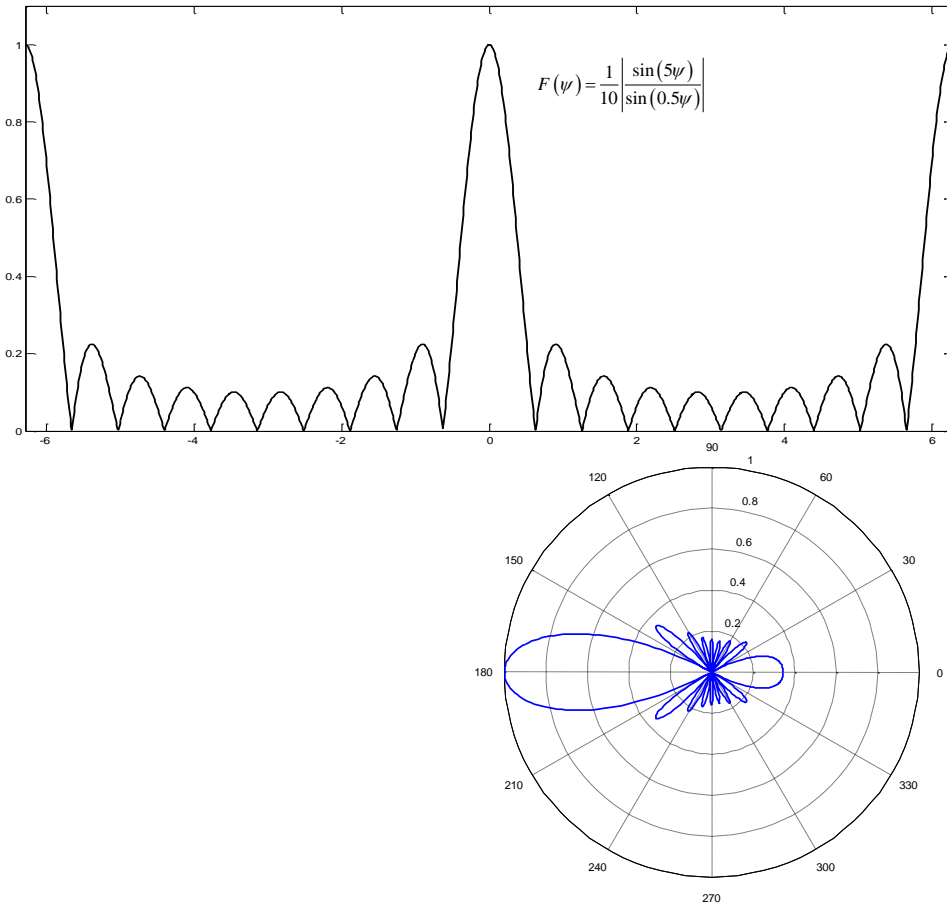
$$d \leq \frac{\lambda}{2} \left(1 - \frac{1}{N}\right) = \frac{\lambda}{2} \left(1 - \frac{1}{5}\right) = 0.4\lambda$$

که با توجه به  $d$  داده شده، برقرار است. از طرفی برای فاز عناصر هم باید داشته باشیم:

$$\alpha = \pm \left( \beta d + \frac{\pi}{N} \right) = \pm \left( \frac{2\pi}{\lambda} 0.4\lambda + \frac{\pi}{10} \right) = \pm 0.9\pi$$

$$\text{if } \theta_0 = 180 \rightarrow \alpha = 0.9\pi$$

بنابراین پترن آرایه به صورت زیر خواهد بود.



۷- نشان دهید که اگر فاصله بین عناصر آرایه خیلی کم باشد، ضریب آرایه یک آرایه خطی با فواصل یکسان و تحریک یکنواخت تقریباً برابر پترن یک منبع خطی یکنواخت خواهد بود.  
 حل) ضریب آرایه یک آرایه خطی با فواصل یکسان و تحریک یکنواخت به صورت زیر است:

$$F_{array} = \frac{\sin(N\psi/2)}{N \sin(\psi/2)} = \frac{\sin\left(\frac{N\beta d}{2} \cos\theta\right)}{N \sin\left(\frac{\beta d}{2} \cos\theta\right)}$$

با کاهش فاصله بین عناصر و ثابت ماندن  $L=Nd$ ، داریم:

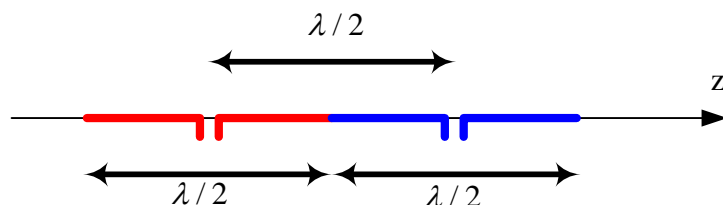
$$\lim_{d \rightarrow 0} F_{array} = \frac{\sin\left(\frac{\beta L}{2} \cos\theta\right)}{N \left(\frac{\beta d}{2} \cos\theta\right)} = \frac{\sin\left(\frac{\beta L}{2} \cos\theta\right)}{\frac{\beta L}{2} \cos\theta}$$

که مشابه رابطه مربوط به پترن منبع خطی یکنواخت است.



۸- دو آنتن دوقطبی نیم‌موج که به‌صورت یک آرایه هم‌خطی (محور دوقطبی‌ها و آرایه در یک راستا) با فاصله نصف طول موج قرار گرفته‌اند، دارای دامنه و فاز جریان تحریک یکسانی هستند. عبارت پترن میدان راه دور برای حالتی که مرکز عناصر روی محور Z واقع شده باشد، چیست؟ از اصل ضرب پرتوها استفاده کنید.

(حل) ساختار مسئله به‌صورت شکل زیر می‌باشد:



می‌دانیم پترن عناصر دوقطبی نیم‌موج به‌صورت رابطه زیر می‌باشد (رجوع کنید به روابط آنتن‌های دوقطبی با طول دلخواه):

$$g(\theta) = \frac{\cos\left(\frac{\pi}{2} \cos \theta\right)}{\sin \theta}$$

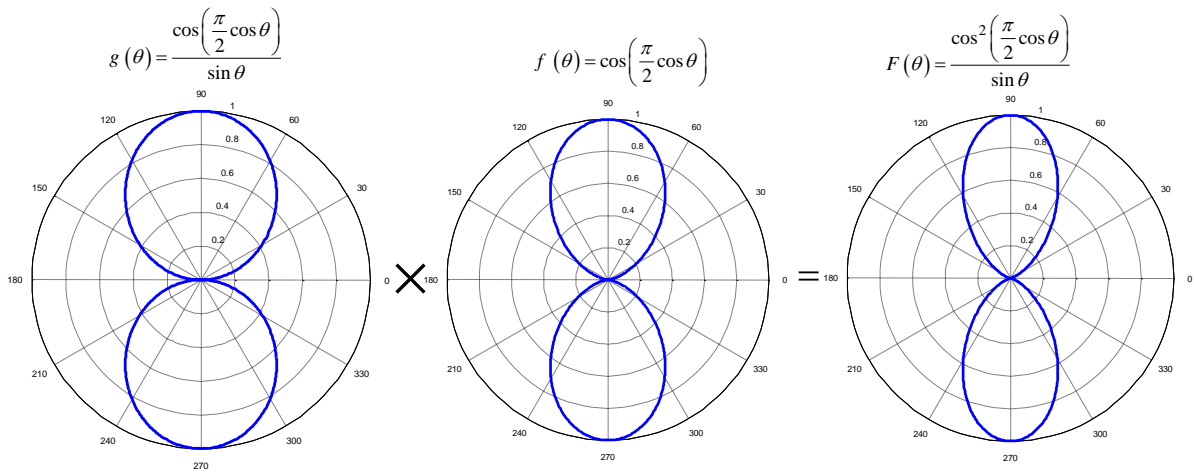
همچنین ضریب آرایه برای این دو عنصر به صورت زیر می‌باشد:

$$\begin{aligned} f(\theta) &= \frac{1}{N} \frac{\sin(N\psi/2)}{\sin(\psi/2)} \stackrel{N=2}{=} \frac{1}{2} \frac{\sin(\psi)}{\sin(\psi/2)} = \frac{1}{2} \frac{2\sin(\psi/2)\cos(\psi/2)}{\sin(\psi/2)} = \cos(\psi/2) \\ &= \cos\left(\frac{\beta d \cos \theta}{2}\right) = \cos\left(\frac{(2\pi/\lambda)(\lambda/2)\cos \theta}{2}\right) = \cos\left(\frac{\pi}{2} \cos \theta\right) \end{aligned}$$

بنابراین طبق اصل ضرب پرتوها پترن راه دور این آرایه دو عنصری متشکل از دو دوقطبی به‌صورت زیر خواهد بود:

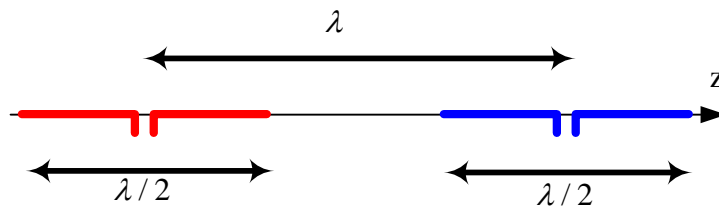
$$F(\theta) = g(\theta)f(\theta) = \frac{\cos^2\left(\frac{\pi}{2} \cos \theta\right)}{\sin \theta}$$

که شکل آن به‌صورت زیر می‌باشد:



۹- مسئله بالا را برای فاصله یک طول موج عناصر تکرار کنید.

حل) در صورتی که فاصله بین دو عنصر برابر یک طول موج باشد که در شکل زیر نیز نشان داده شده است:

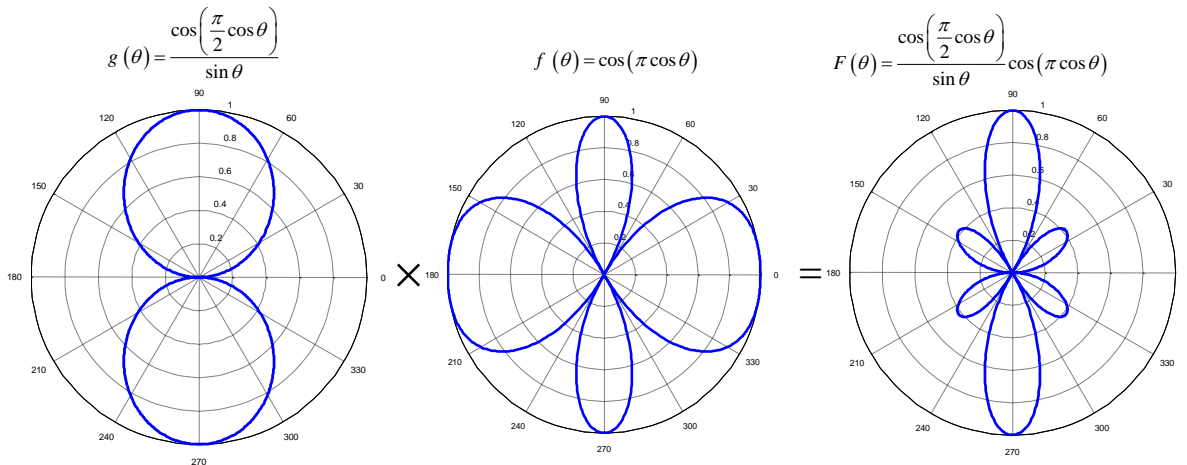


پترن آرایه که ضرب پترن عنصر در ضریب آرایه است، به صورت زیر خواهد بود:

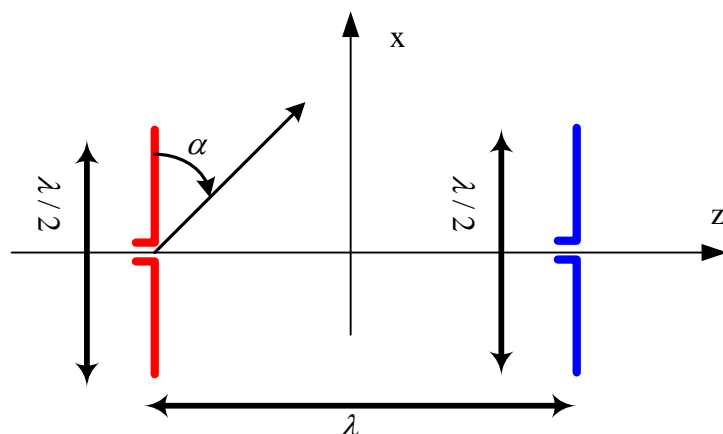
$$F(\theta) = g(\theta)f(\theta) = \frac{\cos\left(\frac{\pi}{2} \cos \theta\right)}{\sin \theta} \times \cos(\pi \cos \theta)$$

دقت کنید که چون عناصر تغییری نکرده‌اند و همچنان دوقطبی نیم‌موج می‌باشند، عبارت پترن عنصر همانند مثال قبل است. ولی ضریب آرایه به دلیل تغییر فاصله بین دو عنصر تغییر کرده است.

پترن این آرایه دو عنصری متشکل از دو عنصر دوقطبی در شکل زیر نشان داده شده است:



۱۰- دو آنتن دوقطبی نیم‌موج موازی که دارای فاصله یک طول موج هستند دارای دامنه و فاز تحریک یکسان هستند. مراکز عناصر روی محور Z قرار گرفته است و دوقطبی‌ها موازی محور X هستند. عبارت پترن میدان راه‌دور را برای این آرایه آنتنی به دست آورید. با استفاده از اصل ضرب پرتوها این پترن را به صورت تقریبی در صفحات XZ و YZ رسم کنید.  
(حل) این ساختار در شکل زیر نشان داده شده است:



با توجه به اینکه دوقطبی‌ها در جهت محور X قرار گرفته‌اند پترن آن‌ها به صورت زیر محاسبه می‌شود:

$$g(\theta) = \frac{\cos\left(\frac{\pi}{2} \cos \alpha\right)}{\sin \alpha} = \frac{\cos\left(\frac{\pi}{2} (\hat{x} \cdot \hat{R})\right)}{\sqrt{1 - (\hat{x} \cdot \hat{R})^2}} = \frac{\cos\left(\frac{\pi}{2} \sin \theta \cos \phi\right)}{\sqrt{1 - \sin^2 \theta \cos^2 \phi}}$$

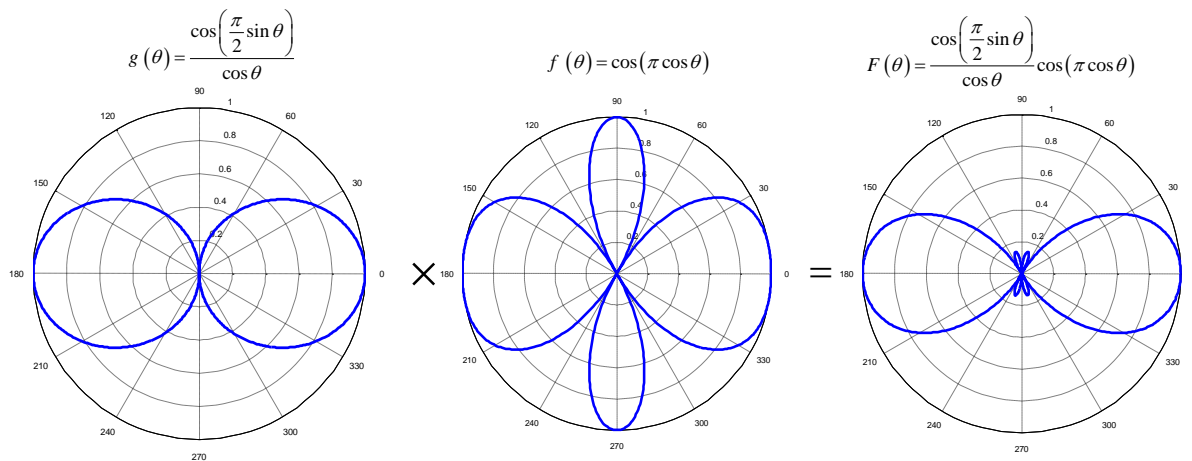
همچنین ضریب آرایه برای این دو آنتن که در فاصله یک طول موج از یکدیگر قرار گرفته‌اند، به صورت زیر است (همانند مثال قبل است):

$$f(\theta) = \cos(\pi \cos \theta)$$

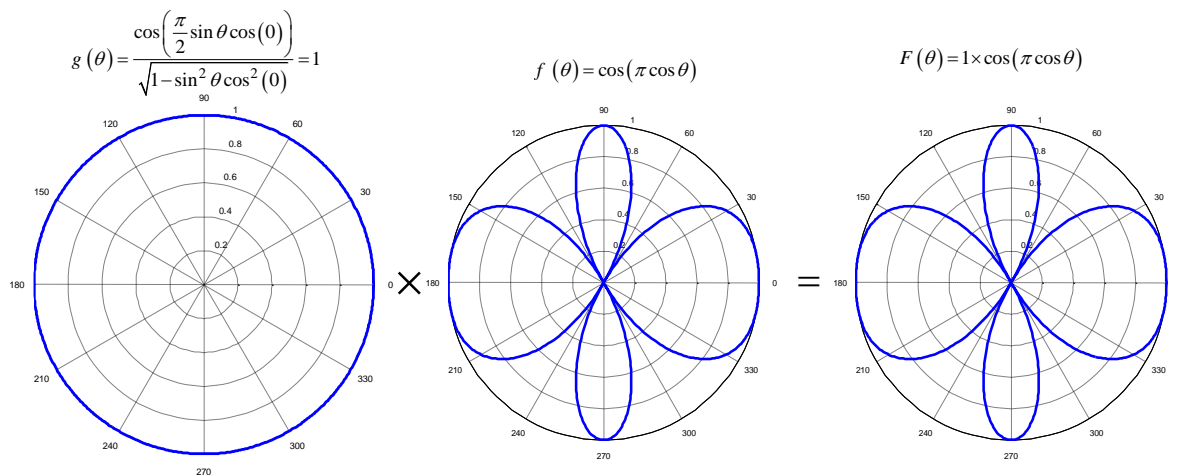
در نتیجه پترن آرایه فوق به صورت زیر خواهد بود:

$$F(\theta) = g(\theta) \times f(\theta) = \frac{\cos\left(\frac{\pi}{2} \sin \theta \cos \phi\right)}{\sqrt{1 - \sin^2 \theta \cos^2 \phi}} \cos(\pi \cos \theta)$$

شکل پترن آنتن در صفحه XZ با قرار دادن  $\phi = 0$  به دست می‌آید، که به صورت زیر به دست می‌آید:

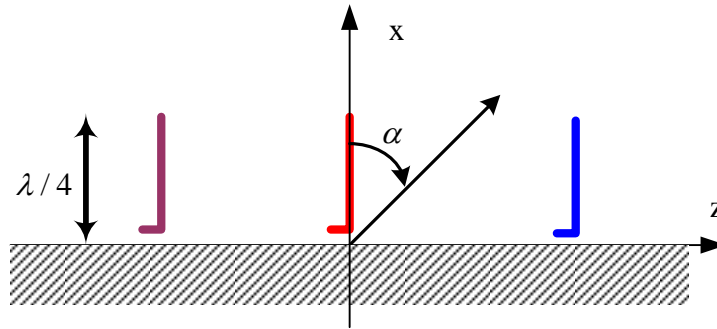


همچنین برای رسم پترن در صفحه  $YZ$  باید قرار دهیم  $\phi = \pi/2$ . بنابراین شکل پترن به صورت زیر به دست خواهد آمد:



- ۱۱- یک آرایه خطی از ۳ تک قطبی ربع طول موج عمودی در مقابل صفحه زمین کامل تشکیل شده است. فرض کنید که مراکز عناصر روی محور  $Z$  قرار گرفته است و صفحه زمین در صفحه  $YZ$  واقع شده است، همچنین تک قطبی‌ها در جهت محور  $X$  می‌باشند.
- (الف) آرایه را به صورت آرایه سرآتش (endfire) هانس-وودیارد طراحی کنید (فاصله بین عناصر را  $d = 0.3\lambda$  فرض کنید).
- (ب) با استفاده از ضریب آرایه جامع (برحسب  $\beta$ )، رسم قطبی ضریب آرایه را انجام دهید.
- (ج) عبارت کلی پترن آرایه را با استفاده از اصل ضرب پرتوها به دست آورید و شکل آن را در صفحات  $YZ$  و  $XZ$  رسم کنید.

حل) ساختار این آرایه در شکل زیر نشان داده شده است:



برای آرایه سرآتش از نوع هانس-وود یارد باید فاصله بین عناصر به صورت زیر باشد:

$$d < \frac{\lambda}{2} \left(1 - \frac{1}{N}\right) = \frac{\lambda}{2} \left(1 - \frac{1}{3}\right) = \frac{\lambda}{3} \approx 0.33\lambda$$

که با توجه به  $d = 0.3\lambda$  داده شده، این رابطه برقرار است. همچنین اختلاف فاز بین عناصر باید به صورت زیر باشد:

$$\alpha = \pm \left( \beta d + \frac{\pi}{N} \right) = \pm \left( \frac{2\pi}{\lambda} \times 0.3\lambda + \frac{\pi}{3} \right) = \pm (0.6\pi + 0.33\pi) = \pm 0.93\pi$$

که علامت + را برای  $\alpha$  انتخاب می‌کنیم. با این انتخاب انتظار داریم که گلبگ اصلی در جهت  $+180$  درجه باشد.

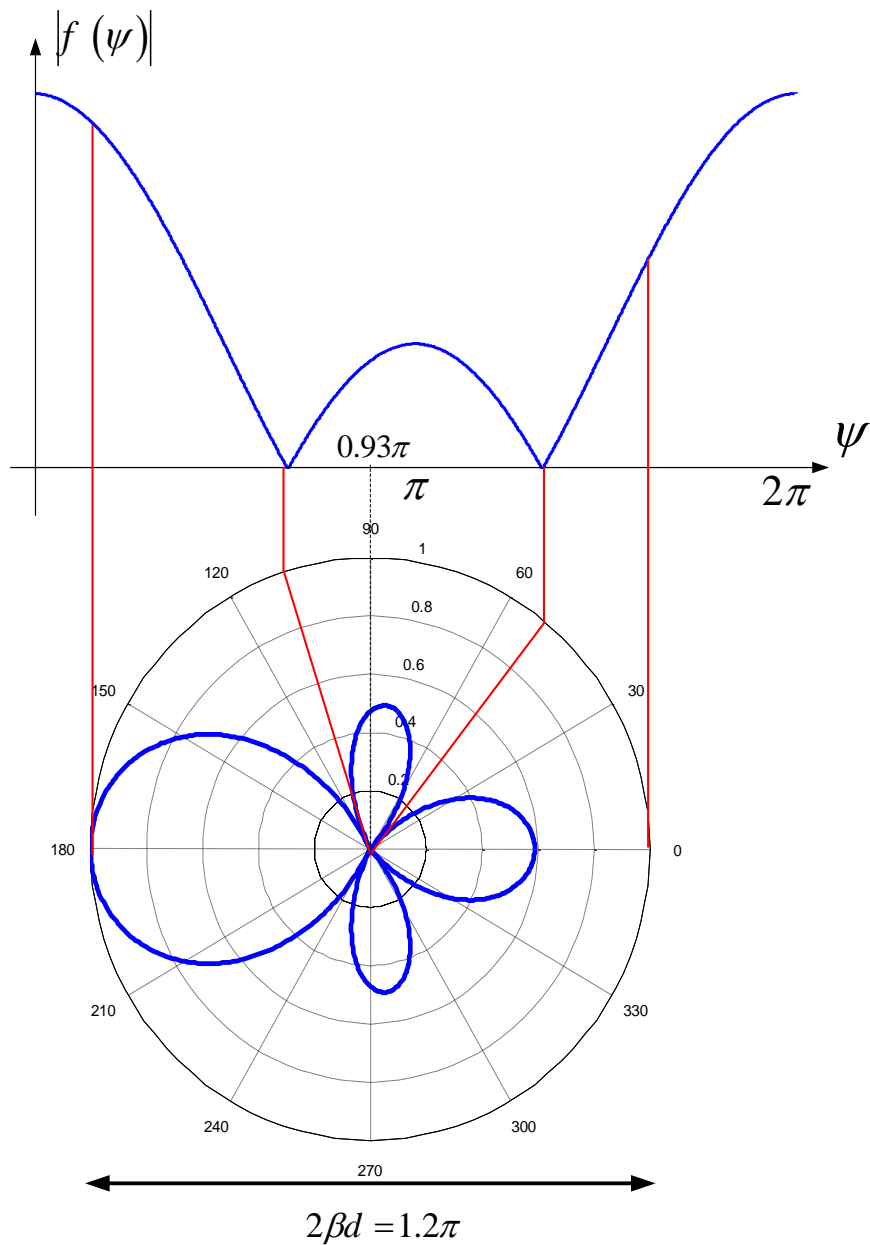
(ب) عبارت ضریب آرایه جامع به صورت زیر خواهد بود:

$$f(\psi) = \frac{1}{N} \frac{\sin(N\psi/2)}{\sin(\psi/2)} = \frac{1}{3} \frac{\sin(3\psi/2)}{\sin(\psi/2)}$$

که

$$\psi = \beta d \cos \theta + \alpha = 0.6\pi \cos \theta + 0.93\pi$$

می‌توان با استفاده از دو عبارت فوق ضریب آرایه را به صورت زیر رسم نمود:



(ج) همانطور که می‌دانیم با استفاده از نظریه تصویر یک آنتن تک قطبی ربع طول موج که در مجاورت زمین قرار گرفته است، معادل یک آنتن دوقطبی نیم‌موج می‌باشد. بنابراین پترن هر عنصر به صورت زیر محاسبه می‌شود:

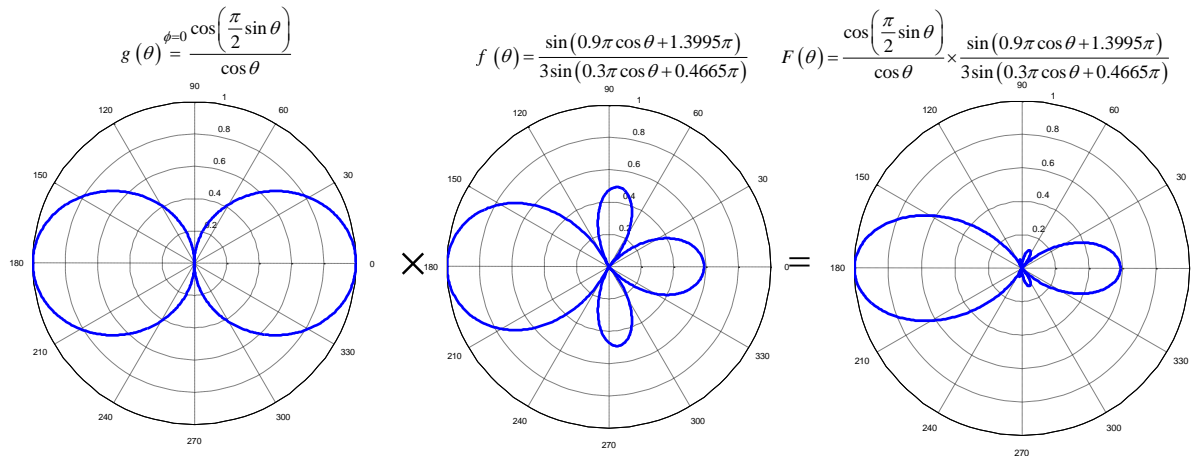
$$g(\theta) = \begin{cases} \cos\left(\frac{\pi}{2} \sin \theta \cos \phi\right) & x > 0 \\ \sqrt{1 - \sin^2 \theta \cos^2 \phi} & x < 0 \\ 0 & \end{cases}$$

در نتیجه پترن کلی آرایه به صورت زیر می‌باشد:

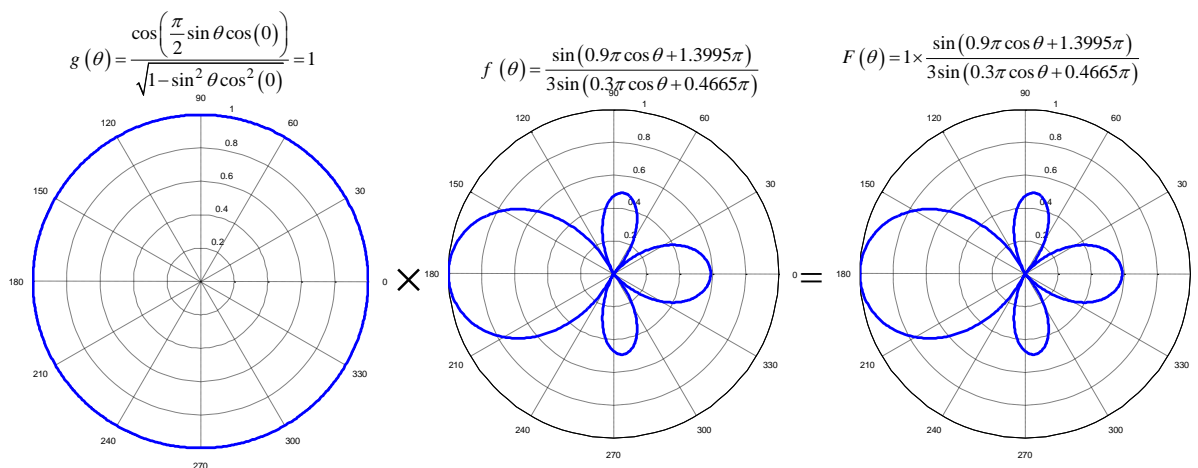
$$F(\theta, \phi) = g(\theta)f(\theta) = \frac{\cos\left(\frac{\pi}{2}\sin\theta\cos\phi\right)}{\sqrt{1-\sin^2\theta\cos^2\phi}} \times \frac{1}{3} \frac{\sin\left(\frac{3}{2}(0.6\pi\cos\theta+0.93\pi)\right)}{\sin\left(\frac{1}{2}(0.6\pi\cos\theta+0.93\pi)\right)}$$

$$= \frac{\cos\left(\frac{\pi}{2}\sin\theta\cos\phi\right)}{\sqrt{1-\sin^2\theta\cos^2\phi}} \times \frac{\sin(0.9\pi\cos\theta+1.3995\pi)}{3\sin(0.3\pi\cos\theta+0.4665\pi)}$$

شکل پترن آرایه در صفحه XZ با قرار دادن  $\phi = 0$  حاصل می‌شود. در نتیجه داریم:



همچنین برای رسم پترن آرایه در صفحه YZ باید قرار دهیم  $\phi = \pi/2$ ، بنابراین:

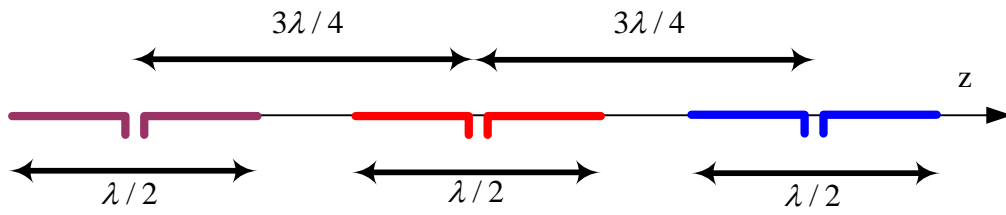


۱۲- سه آنتن دوقطبی نیم‌موج هم‌خطی (collinear) به فاصله  $d = 3\lambda/4$  از یکدیگر قرار

گرفته‌اند و با فاز و دامنه یکسان تحریک شده‌اند. با استفاده از تئوری آرایه‌ها پترن آرایه آنتنی را

رسم کنید.

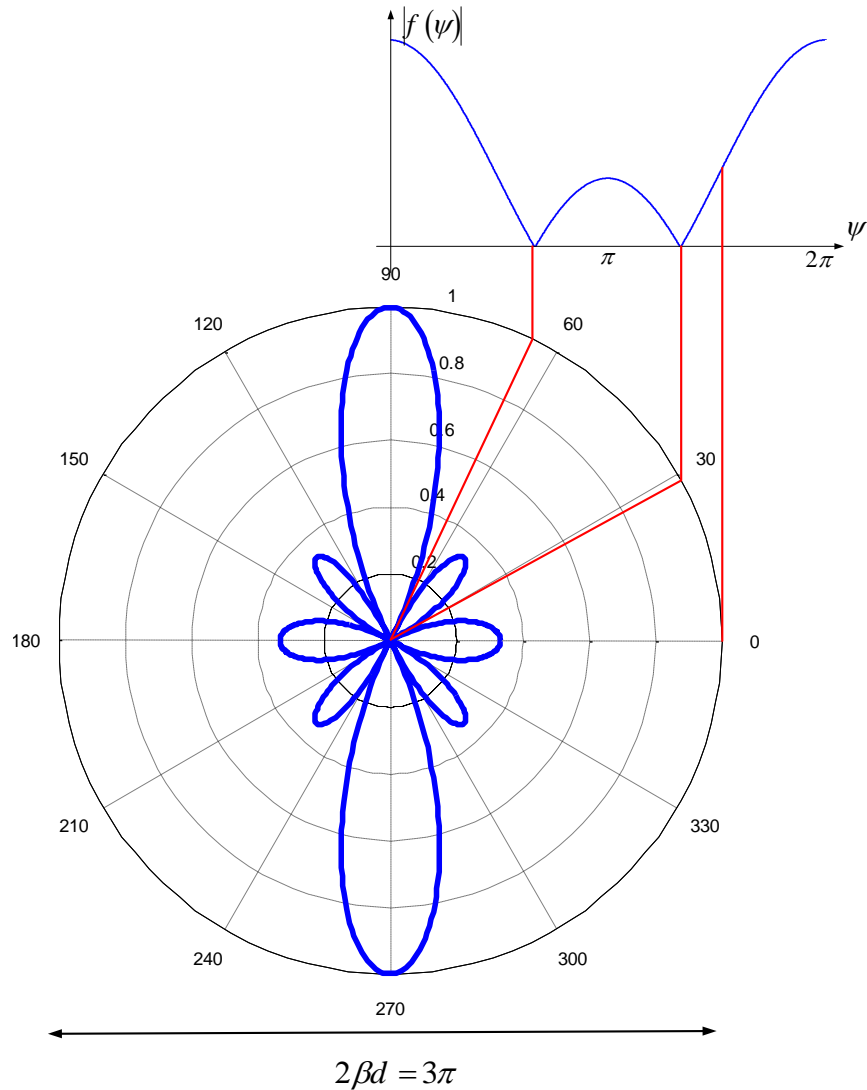
(حل) ساختار مسئله به صورت شکل زیر می‌باشد:



ضریب آرایه برای این آرایه به صورت زیر می باشد:

$$\left\{ \begin{aligned} f(\psi) &= \frac{1}{N} \frac{\sin(N\psi/2)}{\sin(\psi/2)} = \frac{1}{3} \frac{\sin(3\psi/2)}{\sin(\psi/2)} \\ \psi &= \beta d \cos \theta + \alpha = \frac{2\pi}{\lambda} \times \frac{3}{4} \lambda \times \cos \theta + 0 = \frac{3\pi}{2} \cos \theta \end{aligned} \right.$$

که در شکل زیر رسم شده است:

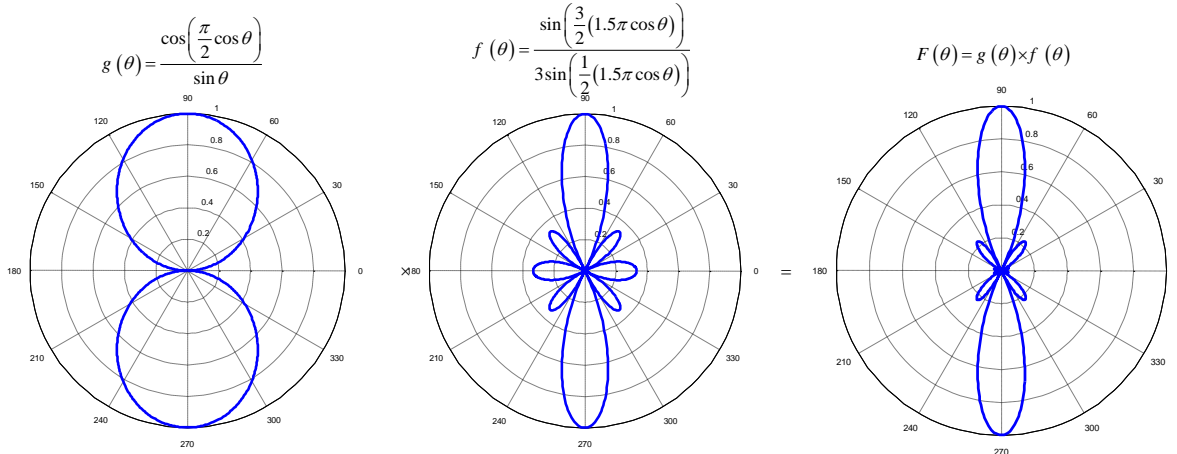


همچنین می دانیم پترن آنتن دوقطبی نیم موجی که در راستای Z واقع شده است، به صورت زیر می باشد:

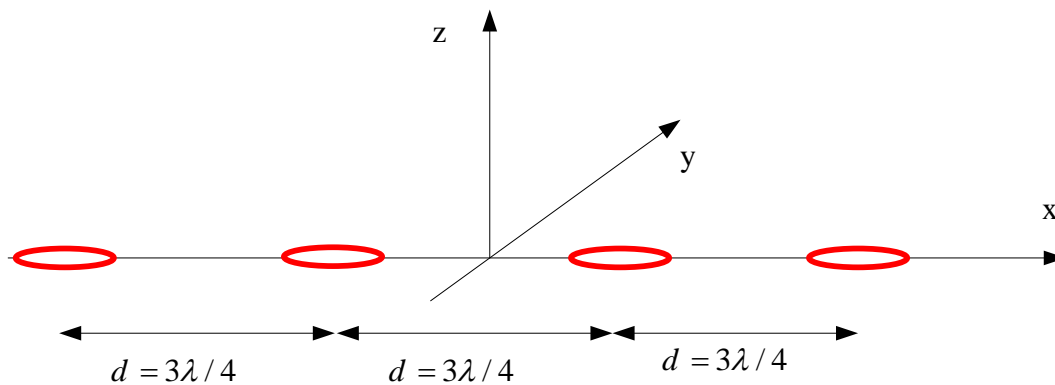


$$g(\theta) = \frac{\cos\left(\frac{\pi}{2} \cos \theta\right)}{\cos \theta}$$

بنابراین طبق اصل ضرب پرتوها پترن کلی آرایه متشکل از سه دوقطبی نیم‌موج به صورت زیر رسم می‌شود.



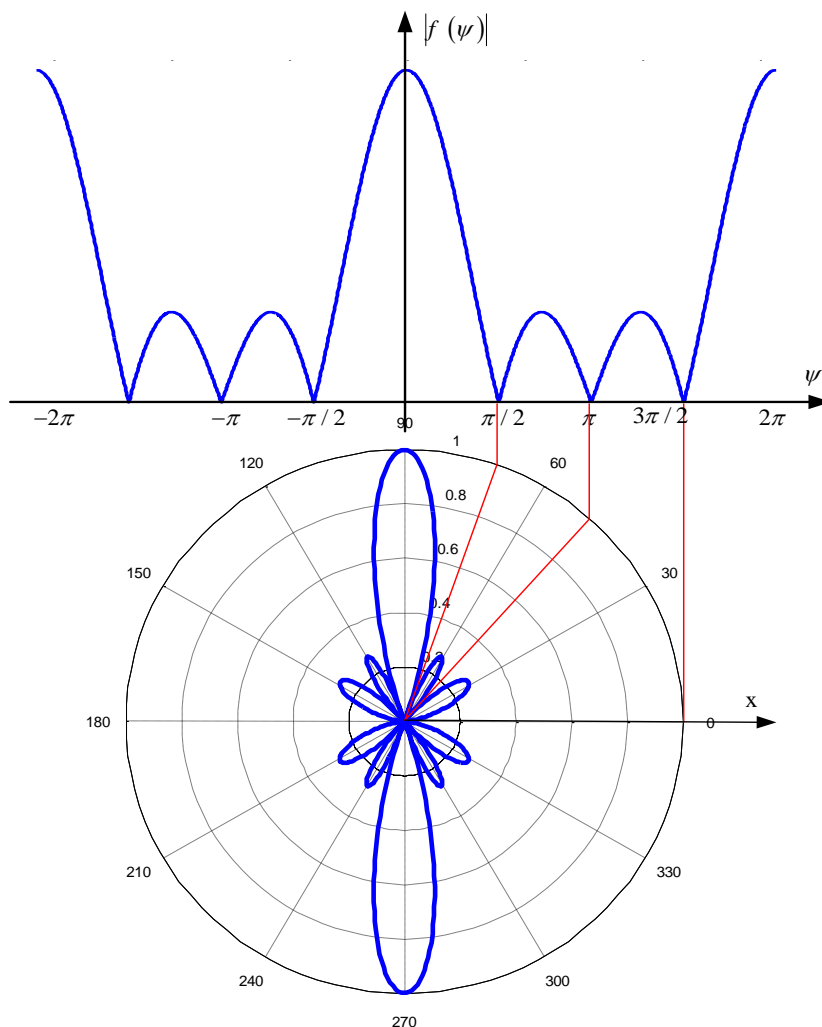
۱۳- یک آرایه متشکل شده است از ۴ آنتن حلقوی کوچک که روی محور X و به فواصل  $3\lambda/4$  قرار گرفته‌اند. همچنین حلقه‌های روی صفحه XY قرار گرفته‌اند. با فرض تحریک دامنه و فاز یکسان پترن آرایه آنتنی را در صفحات XY و XZ و YZ محاسبه و رسم کنید. (حل ساختار این آنتن در شکل زیر نشان داده شده است:



برای این آرایه عبارت ضرب آرایه به صورت زیر می‌باشد (توجه کنید که محور آرایه X است):

$$\left\{ \begin{aligned} f(\theta) &= \frac{1}{N} \frac{\sin(N\psi/2)}{\sin(\psi/2)} = \frac{1}{4} \frac{\sin(2\psi)}{\sin(\psi/2)} \\ \psi &= \beta d \cos \gamma + \alpha = \left(\frac{2\pi}{\lambda}\right) \left(\frac{3\lambda}{4}\right) \sin \theta \cos \phi + 0 = \frac{3\pi}{2} \sin \theta \cos \phi \end{aligned} \right.$$

برای رسم ضریب آرایه زاویه  $\gamma$  را در نظر می‌گیریم. بنابراین کافی است مشابه مثال‌های قبل عمل کنیم با این تفاوت که زاویه را نسبت به محور X در نظر بگیریم. بنابراین شکل آن به صورت زیر خواهد بود:



دقت کنید که ضریب آرایه رسم شده در شکل فوق براساس زاویه نسبت به محور X می‌باشد. همچنین همانطور که می‌دانیم پترن آنتن‌های حلقوی که روی صفحه XY قرار گرفته‌اند به صورت زیر می‌باشد:

$$g(\theta) = \sin \theta$$

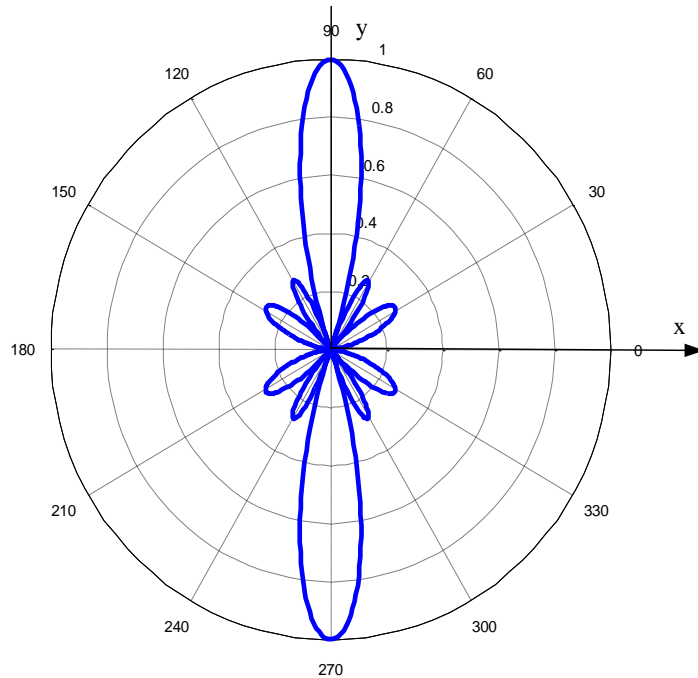
در نتیجه پترن کلی آرایه که با استفاده از اصل ضرب پترن‌ها به دست می‌آید، به صورت زیر است:

$$F(\theta, \phi) = g(\theta) \times f(\theta, \phi) = \sin \theta \times \frac{\sin(3\pi \cos \gamma)}{4 \sin\left(\frac{3\pi}{4} \cos \gamma\right)} = \sin \theta \times \frac{\sin(3\pi \sin \theta \cos \phi)}{4 \sin\left(\frac{3\pi}{4} \sin \theta \cos \phi\right)}$$

برای رسم پترن کلی روی صفحه XY باید قرار دهیم  $\theta = \pi/2$ ، در نتیجه داریم:

$$F(\theta, \phi) = \frac{\sin(3\pi \cos \phi)}{4 \sin\left(\frac{3\pi}{4} \cos \phi\right)}$$

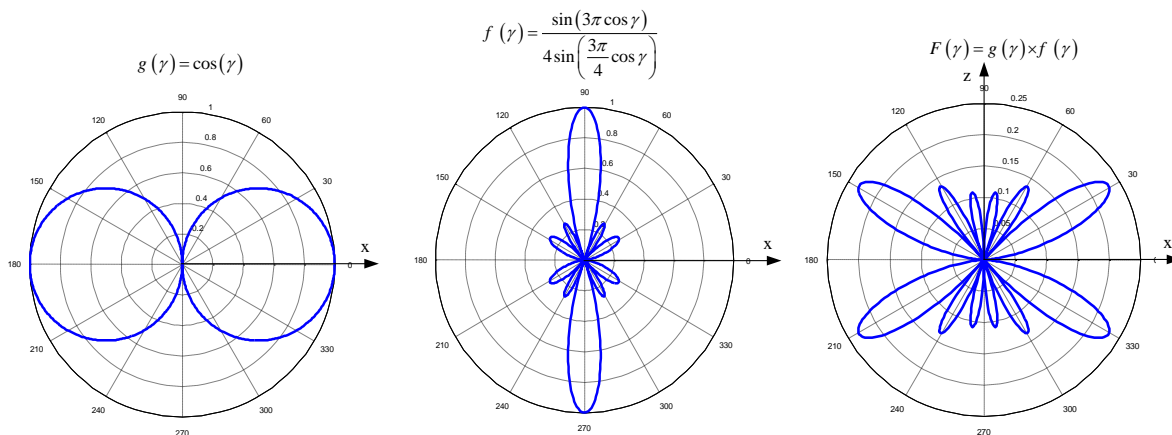
که اگر زاویه  $\gamma$  را برابر  $\phi$  در نظر بگیریم، همان ضریب آرایه خواهد بود که شکل آن به صورت زیر رسم می‌شود:



همچنین برای رسم پترن کلی روی صفحه XZ باید قرار دهیم  $\phi = 0$ ، در نتیجه داریم:

$$F(\theta, \phi) = \sin \theta \times \frac{\sin(3\pi \sin \theta)}{4 \sin\left(\frac{3\pi}{4} \sin \theta\right)} \stackrel{\cos \gamma = \sin \theta \cos(0)}{=} \cos \gamma \times \frac{\sin(3\pi \cos \gamma)}{4 \sin\left(\frac{3\pi}{4} \cos \gamma\right)}$$

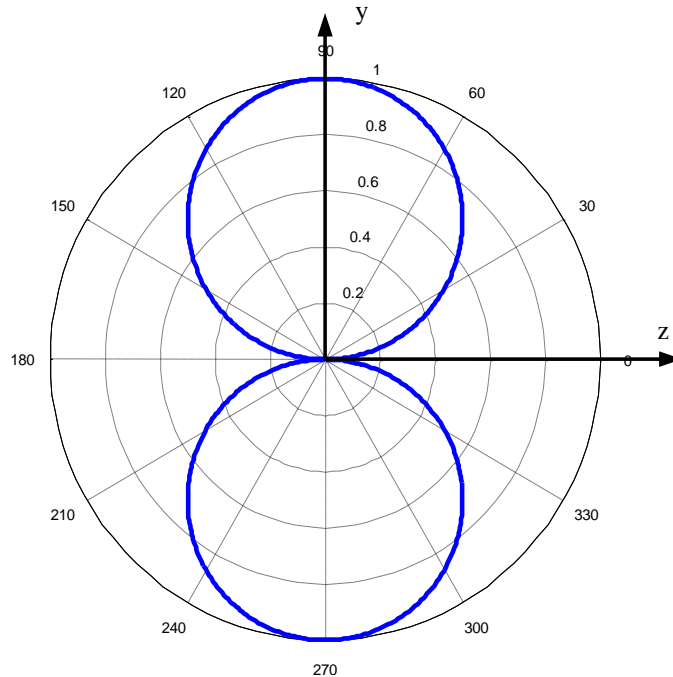
که رسم آن به صورت زیر می‌باشد (رسم بر اساس زاویه  $\gamma$  که نسبت به محور X سنجیده می‌شود، انجام می‌شود):



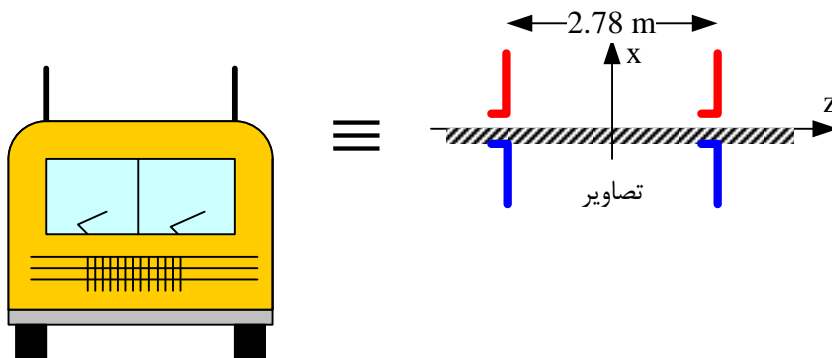
همچنین برای رسم پترن کلی در صفحه  $YZ$  باید قرار دهیم  $\phi = \pi/2$ ، که در نتیجه پترن به صورت زیر است:

$$F(\theta, \phi) = \sin \theta \times \frac{\sin\left(3\pi \sin \theta \cos\left(\frac{\pi}{2}\right)\right)}{4 \sin\left(\frac{3\pi}{4} \sin \theta \cos\left(\frac{\pi}{2}\right)\right)} = \sin \theta$$

که شکل آن به صورت زیر است:



۱۴- فرض کنید که یک کامیون از باند شهری در ۲۷ مگاهرتز برای مخابره خود استفاده می-کند. سیستم آنتنی آن متشکل شده است از دو آنتن تک قطبی موازی با محور  $X$  که به فاصله ۲/۷۸ متر از هم روی محور  $Z$  قرار گرفته‌اند. با فرض برابر بودن دامنه و فاز تحریک دو آنتن، پترن آرایه آنتنی مورد بحث را در صفحات اصلی رسم کنید. حل) ساختار مسئله در شکل زیر نشان داده شده است:



با توجه به داده‌های مسئله داریم:

$$N = 2$$

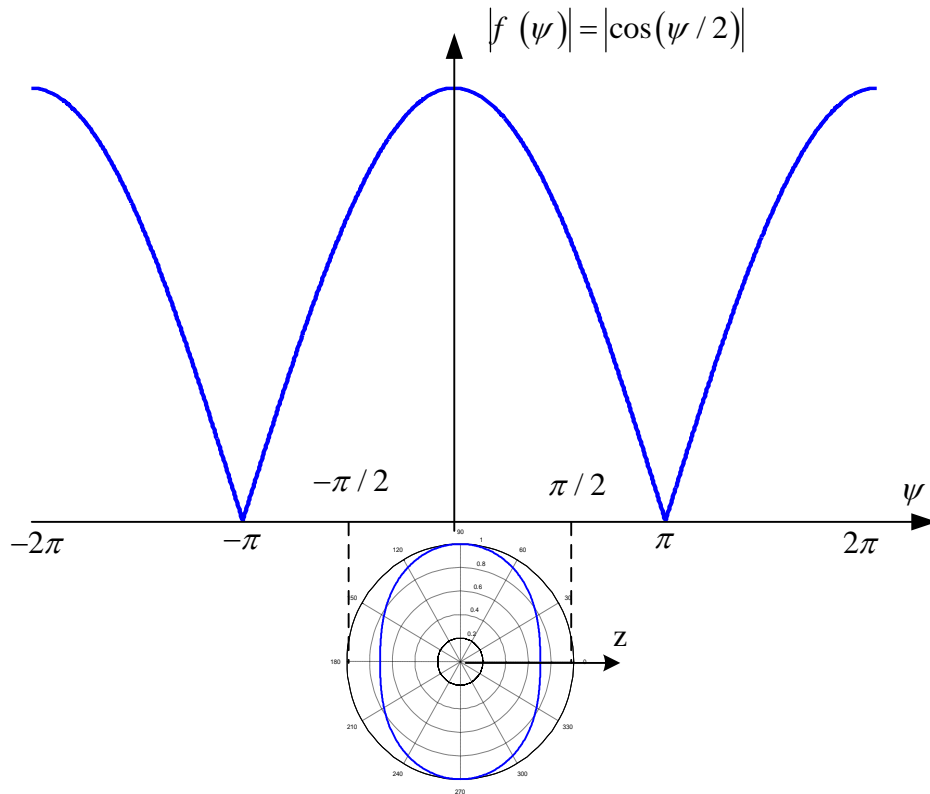
$$f = 27\text{MHz} \rightarrow \lambda = 11.1\text{m} \rightarrow d = \frac{\lambda}{4}$$

بنابراین ضریب آرایه به صورت زیر خواهد بود:

$$f(\psi) = \frac{1}{N} \frac{\sin(N\psi/2)}{\sin(\psi/2)} = \frac{1}{2} \frac{\sin(\psi)}{\sin(\psi/2)} = \cos(\psi/2)$$

$$\psi = \beta d \cos \theta + \alpha = \frac{2\pi}{\lambda} \times \frac{\lambda}{4} \cos \theta + 0 = \frac{\pi}{2} \cos \theta$$

که شکل آن وابستگی به نداشته و حول محور Z متقارن است، یعنی پترن روی صفحات XZ و YZ مشابه هم بوده و به صورت زیر رسم می‌شود:



همچنین پترن روی صفحه XY با قرار دادن به دست می‌آید که با توجه به عبارت زیر:

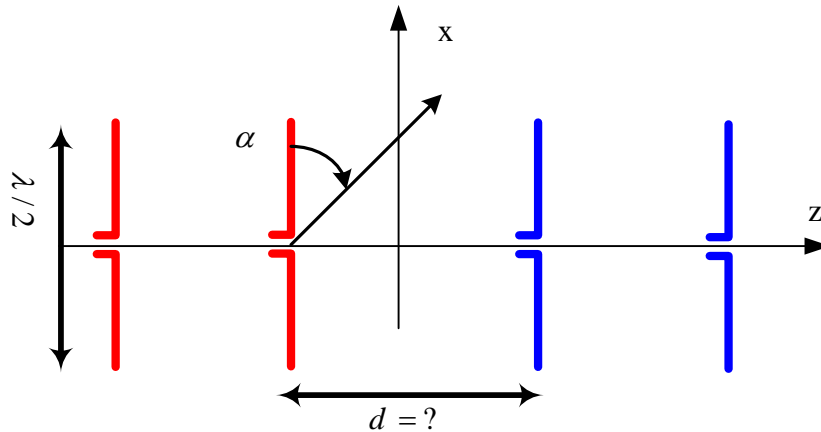
$$|f(\theta)|_{\theta=\frac{\pi}{2}} = \cos\left(\frac{\pi}{4} \cos \theta\right)_{\theta=\frac{\pi}{2}} = 1$$

یک دایره است.

۱۵- یک آرایه چهارتایی پهلوآتش (broadside) از آنتن‌های دوقطبی نیم‌موج طراحی کنید که

پهنای تابه (beamwidth) تا حد امکان باریک باشد و گلبیگ‌های فرعی دارای حداقل 8 dB

اختلاف دامنه نسبت به ماکزیمم گلبیگ اصلی باشند. فرض این است که تحریک یکنواخت است.  
 الف) فاصله بین عناصر (d) را بیابید. ب) پترن‌های قطبی را در صفحات E و H رسم کنید.  
 حل) ساختار مسئله در شکل زیر نشان داده شده است:



با توجه به شکل فوق و با توجه به اینکه پترن عناصر دوقطبی به دلیل قرار گرفتن در راستای محور

X به صورت  $\frac{\cos\left(\frac{\pi}{2} \cos \gamma\right)}{\sin \gamma}$  است که  $\gamma$  زاویه نسبت به محور X است، (زیرا قبلا دیدیم که

دوقطبی‌های نیم‌موجی که در راستای Z هستند دارای پترن  $\frac{\cos\left(\frac{\pi}{2} \cos \theta\right)}{\sin \theta}$  است.)، بنابراین حالت

broadside را نمی‌توان در صفحه XZ داشت زیرا ضرب پترن آرایه و پترن عنصر در جهت X که جهت broadside است صفر می‌شود. در نتیجه صفحه مطلوب برای داشتن حالت broadside صفحه YZ است. در این صفحه پترن عنصر برابر واحد است، زیرا:

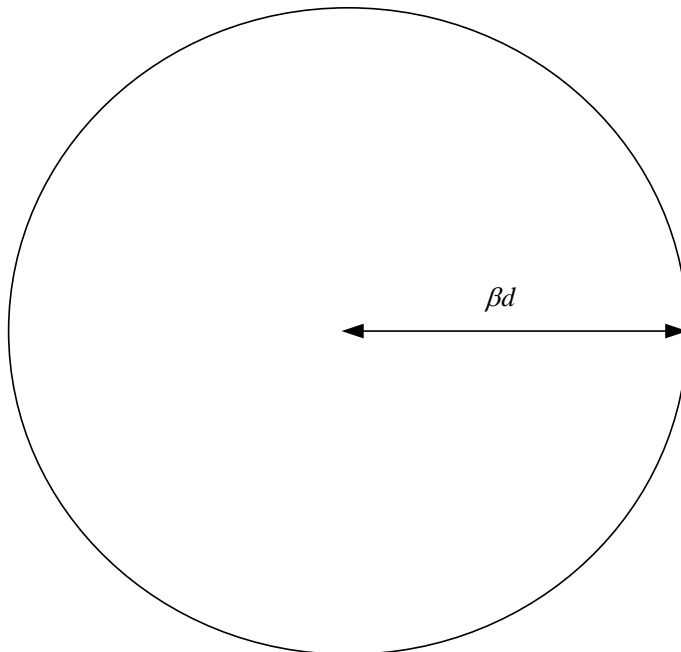
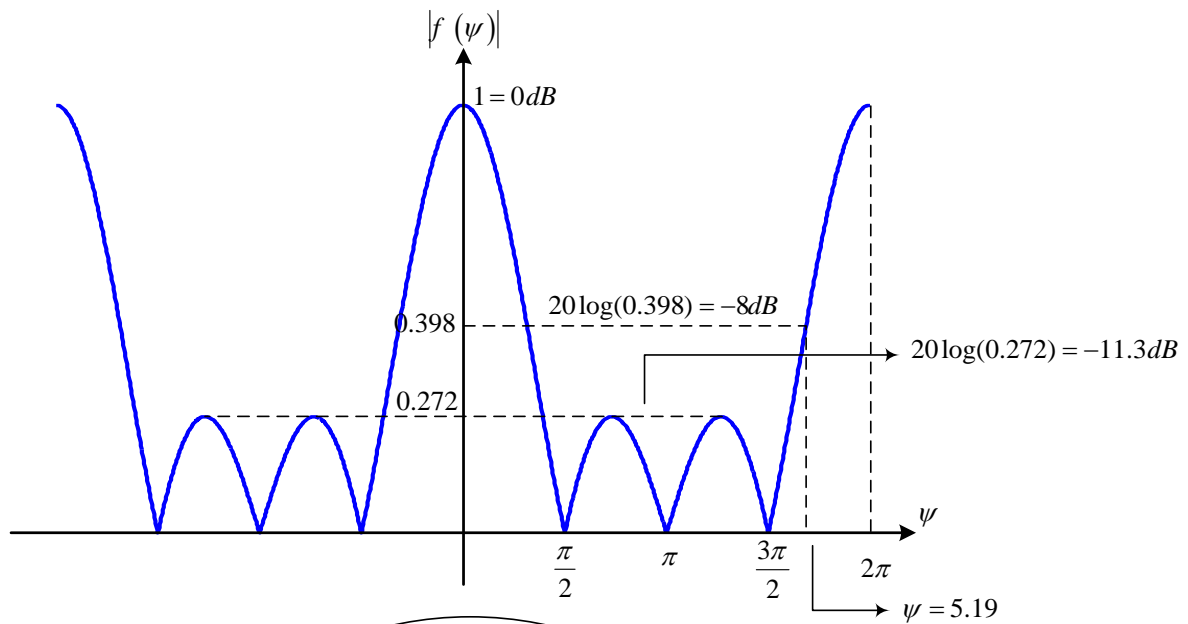
$$g(\theta, \phi)|_{yz-plane} = g(\gamma)|_{\gamma=\pi/2} = \frac{\cos\left(\frac{\pi}{2} \cos(\pi/2)\right)}{\sin(\pi/2)} = 1$$

در نتیجه برای طراحی فقط پترن آرایه (یا ضریب آرایه) را در نظر می‌گیریم. برای چهار عنصر ضریب آرایه به صورت زیر است:

$$f(\psi) = \frac{1}{N} \frac{\sin(N\psi/2)}{\sin(\psi/2)} = \frac{1}{4} \frac{\sin(2\psi)}{\sin(\psi/2)}$$

$$\psi = \beta d \cos \theta + \alpha \quad \text{broadside } (\alpha=0) = \beta d \cos \theta$$

که برای داشتن پهنای تابه گلبیگ اصلی تا حد ممکن باریک باید در ناحیه مرئی (ناحیه‌ای از منحنی که توسط دایره پوشش داده می‌شود) به جز پیک پترن که توسط گلبیگ اصلی مشاهده می‌شود، دامنه بزرگتر از -8 dB مشاهده نکنیم. در شکل زیر ضریب آرایه نشان داده شده است.



با توجه به شکل واضح است که دو گلبرگ کوچک واقع شده در بازه  $\left[\frac{\pi}{2}, \frac{3\pi}{2}\right]$  مشکلی را از نظر اندازه  $-8 \text{ dB}$  ندارند، زیرا دامنه ماکزیمم پترن توان برای این دو گلبرگ برابر  $-11.3 \text{ dB}$  است که کمتر از مقدار  $-8 \text{ dB}$  خواسته شده است. در نتیجه می توان  $\beta d$  را تا آنجا افزایش داد که برابر  $5/19$  شود زیرا در این نقطه دامنه پترن توان برابر  $-8 \text{ dB}$  می شود. (توجه کنید که پترن توان برابر مجذور پترن میدان است، بنابراین برای به دست آوردن مقدار لگاریتمی پترن میدان برحسب پترن میدان از رابطه مقابل استفاده شده است:  $20 \log |f(\theta)| = 10 \log |f(\theta)|^2$ ). بنابراین فاصله  $d$  از رابطه زیر محاسبه می شود:

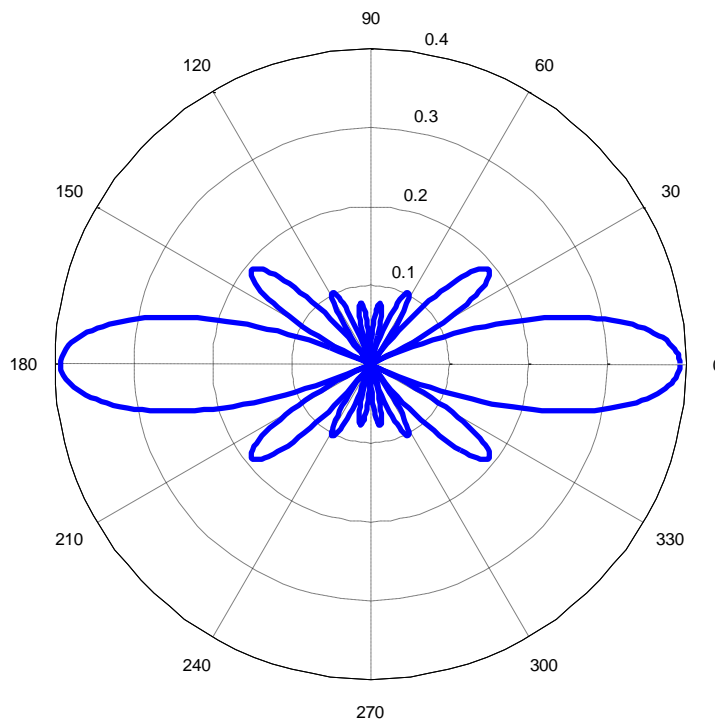
$$\beta d = 5.19 \rightarrow d = \frac{5.19}{2\pi/\lambda} = 0.826\lambda$$

صفحه E صفحه‌ای است که جهت ماکزیمم تشعشع و جهت میدان الکتریکی آن را ایجاد می‌کند. با توجه به این توضیح صفحه E مربوط به دوقطبی‌ها، صفحه XZ (یا هر صفحه‌ای است که شامل محور X باشد) است و پترن آرایه آنتنی روی این صفحه به این صورت به دست می‌آید:

$$F(\theta) = g(\theta, \phi) \times f(\theta) = \frac{\cos\left(\frac{\pi}{2} \cos \gamma\right)}{\sin \gamma} \times \frac{1}{4} \frac{\sin(2\psi)}{\sin(\psi/2)} = \frac{\cos\left(\frac{\pi}{2} \sin \theta \cos \phi\right)}{\sqrt{1 - \sin^2 \theta \cos^2 \phi}} \times \frac{1}{4} \frac{\sin(2\beta d \cos \theta)}{\sin\left(\frac{\beta d \cos \theta}{2}\right)}$$

$$= \frac{\cos\left(\frac{\pi}{2} \sin \theta \cos \phi\right)}{\sqrt{1 - \sin^2 \theta \cos^2 \phi}} \times \frac{1}{4} \frac{\sin(10.38 \cos \theta)}{\sin(2.595 \cos \theta)}$$

$$xz - plane (\phi = 0) : F(\theta) = \frac{\cos\left(\frac{\pi}{2} \sin \theta\right)}{\cos \theta} \frac{1}{4} \frac{\sin(10.38 \cos \theta)}{\sin(2.595 \cos \theta)}$$



(سعی کنید توسط اصل ضرب پترن‌ها و ضرب کردن تصویری پترن عنصر و ضرب آرایه به شکل فوق برسید.)

صفحه H صفحه‌ای است که توسط جهت ماکزیمم تشعشع و جهت میدان مغناطیسی آن ایجاد می‌شود. بنابراین برای دوقطبی‌های مفروض در مسئله صفحه H صفحه YZ است. در این صفحه پترن به صورت زیر محاسبه می‌شود:

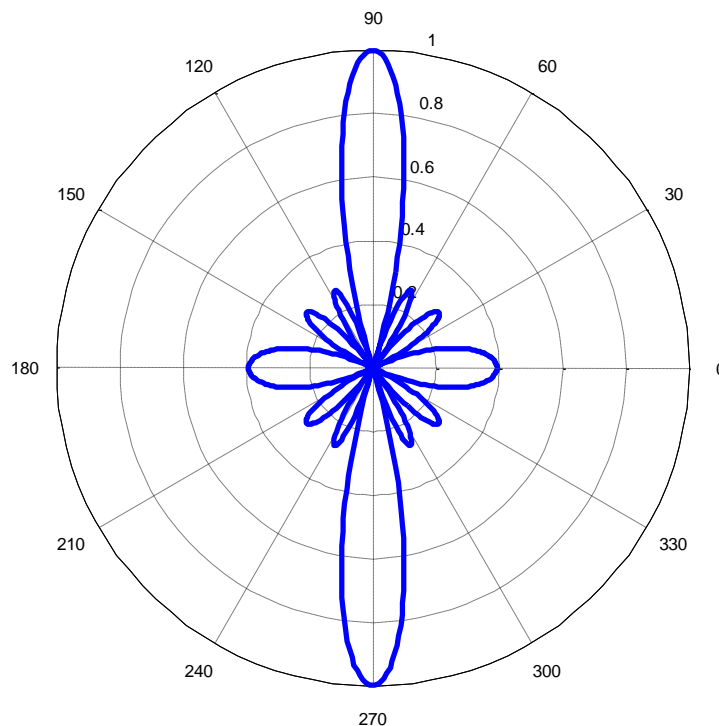


$$F(\theta) = g(\theta, \phi) \times f(\theta) = \frac{\cos\left(\frac{\pi}{2} \cos \gamma\right)}{\sin \gamma} \times \frac{1}{4} \frac{\sin(2\psi)}{\sin(\psi/2)} = \frac{\cos\left(\frac{\pi}{2} \sin \theta \cos \phi\right)}{\sqrt{1 - \sin^2 \theta \cos^2 \phi}} \times \frac{1}{4} \frac{\sin(2\beta d \cos \theta)}{\sin\left(\frac{\beta d \cos \theta}{2}\right)}$$

$$= \frac{\cos\left(\frac{\pi}{2} \sin \theta \cos \phi\right)}{\sqrt{1 - \sin^2 \theta \cos^2 \phi}} \times \frac{1}{4} \frac{\sin(10.38 \cos \theta)}{\sin(2.595 \cos \theta)}$$

$$xz - plane (\phi = \frac{\pi}{2}): F(\theta) = \frac{1}{4} \frac{\sin(10.38 \cos \theta)}{\sin(2.595 \cos \theta)}$$

که رسم آن همانند شکل ضریب آرایه است که به صورت زیر می توان ترسیم کرد:



۱۶- سمت گرایی آرایه های زیر را که از عناصر نقطه ای (ایزوتروپیک) تشکیل شده اند را محاسبه کنید.

$$N = 2, d = \lambda / 2 \text{ (الف)}$$

$$N = 15, d = \lambda \text{ (ب)}$$

حل) سمت گرایی یک آرایه خطی که از عناصر ایزوتروپیک ساخته شده است توسط رابطه زیر محاسبه می شود:

$$D = \frac{1}{\frac{1}{N} + \frac{2}{N^2} \sum_{m=1}^{N-1} \frac{N-m}{m \beta d} \sin m \beta d \cos m \alpha}$$

که در حالی که فاصله عناصر مضرب صحیحی از نصف طول موج باشد، سمت‌گرایی توسط رابطه زیر محاسبه می‌شود:

$$d = n \frac{\lambda}{2}, \alpha = 0 \rightarrow D = N$$

بنابراین برای قسمت (الف) داریم:

$$D = N = 2 \rightarrow D^{dB} = 10 \log(2) = 3dB$$

همچنین برای قسمت (ب) داریم:

$$D = N = 15 \rightarrow D^{dB} = 10 \log(15) = 11.8dB$$

۱۷- نشان دهید که برای یک آرایه خطی سرآتش (endfire) معمولی که دارای عناصر

ایزوتروپیک با فاصله‌گذاری ربع طول موج است، داریم  $D=N$ .

حل) برای این آرایه داریم:

$$\beta d = \frac{2\pi}{\lambda} \times \frac{\lambda}{4} = \frac{\pi}{2} \Rightarrow \alpha = \pm \beta d = \pm \frac{\pi}{2} \Rightarrow \sin\left(m \frac{\pi}{2}\right) \cos\left(m \frac{\pi}{2}\right) = 0$$

$$\rightarrow D = \frac{1}{\frac{1}{N} + 0} = N$$

۱۸- یک آرایه خطی با فاصله‌گذاری  $d = \lambda/2$  را که عناصر آن به صورت دوجمله‌ای تحریک

شده‌اند را در نظر بگیرید.

(الف) ضریب آرایه نرمالیزه را برحسب  $\theta$  بیابید.

(ب) رابطه‌ای برای سمت‌گرایی بیابید.

(ج) سمت‌گرایی را برای  $N=5$  محاسبه کنید.

حل) (الف) برای دو عنصر ضریب آرایه به صورت زیر محاسبه می‌شود:

$$AF(\psi) = 1 + e^{j\psi} = 1 + e^{j\beta d \cos\theta} \stackrel{d=\lambda/2}{=} 1 + e^{j\pi \cos\theta} = 2e^{j\frac{\pi}{2} \cos\theta} \cos\left(\frac{\pi}{2} \cos\theta\right)$$

$$\rightarrow f(\theta) = |AF(\psi)|_{normalized} = \cos\left(\frac{\pi}{2} \cos\theta\right)$$

بنابراین برای یک آرایه دوجمله‌ای  $N$  عنصری داریم:

$$AF = [1 + e^{j\psi}]^{N-1} \Rightarrow f(\theta) = \left[ \cos\left(\frac{\pi}{2} \cos\theta\right) \right]^{N-1}$$

(ب) داریم:

$$\Omega_A = \int_0^{2\pi} \int_0^\pi |f(\theta)|^2 \sin \theta d\theta d\phi = 2\pi \int_0^\pi \left[ \cos\left(\frac{\pi}{2} \cos \theta\right) \right]^{2(N-1)} \sin \theta d\theta$$

$$\xrightarrow{u = \frac{\pi}{2} \cos \theta \rightarrow du = -\frac{\pi}{2} \sin \theta d\theta} = 2\pi \int_{\pi/2}^{-\pi/2} [\cos u]^{2N-2} \frac{du}{-\pi/2} = 4 \int_{-\pi/2}^{\pi/2} [\cos u]^{2N-2} du$$

با توجه به عبارت زیر

$$\int \cos^{2m}(x) dx = \frac{(2m)!}{2^{2m} (m!)^2} x + \sin(x) \sum_{r=0}^{m-1} \frac{(2m)!(r!)^2}{2^{2m-2r} (2r+1)!(m!)^2} \cos^{2r+1}(x)$$

می‌توانیم انتگرال مذکور را به صورت زیر محاسبه کنیم:

$$\Omega_A = 4 \frac{[2(N-1)]!}{2^{2N-2} [(N-1)!]^2} \left[ \frac{\pi}{2} - \left(-\frac{\pi}{2}\right) \right] = 4\pi \times \frac{[2(N-1)]!}{2^{2N-2} [(N-1)!]^2}$$

بنابراین سمت گرایبی برابر است با:

$$D = \frac{4\pi}{\Omega_A} = \frac{2^{2N-2} [(N-1)!]^2}{[2(N-1)]!}$$

(ج) برای  $N=5$  داریم:

$$D = \frac{2^8 [4!]^2}{8!} = 3.66$$