

$$f_{X_1, X_2}(x_1, x_2) = \int_{x_1}^{x_2} 6 dx_2 = 6(x_2 - x_1) \quad 0 < x_1 < x_2 < 1 \quad \text{ج-}$$

بنابراین

$$P(2X_1 < X_2) = \int_0^1 \int_{2x_1}^{x_2} 6(x_2 - x_1) dx_2 dx_1 = 6 \int_0^1 \left[ x_2^2 - \frac{1}{2} x_1^2 \right]_{2x_1}^{x_2} dx_1$$

$$= 6 \left( \frac{3}{8} \right) \int_0^1 x_1^2 dx = \frac{3}{4} x_1^2 \Big|_0^1 = \frac{3}{4}$$

$$f_{X_2, X_1}(x_2, x_1) = \int_0^{x_2} 6 dx_1 = 6x_2 \quad 0 < x_2 < x_1 < 1 \quad \text{د-}$$

$$f_{X_1, X_2, X_3}(x_1, x_2, x_3) = \frac{f(x_1, x_2, x_3)}{f_{X_2, X_3}(x_2, x_3)} = \frac{6}{6x_2} = \frac{1}{x_2} \quad 0 < x_1 < x_2 < x_3 < 1$$

### ۶.۳ مسائل حل شده

مثال ۱.۶.۳ تابع احتمال متغیر تصادفی  $X$  به صورت زیر داده شده است. مقدار  $k$  را پیدا کنید.

$$f_X(x) = \frac{k}{2^x} \quad x = 0, 1, 2, 3, 4$$

حل بایستی  $k \geq 0$  و همچنین

$$1 = \sum_{x=0}^4 f_X(x) = \sum_{x=0}^4 \frac{k}{2^x} = k \left( 1 + \frac{1}{2} + \frac{1}{4} + \frac{1}{8} + \frac{1}{16} \right) = k \left( \frac{31}{16} \right)$$

$$بنابراین  $k = \frac{16}{31}$$$

مثال ۲.۶.۳ فروشگاهی ۶ دستگاه تلویزیون دارد که ۲ دستگاه آن معیوب است. هتلی ۳ دستگاه

آن را به طور تصادفی خریداری می‌نماید. اگر  $X$  تعداد تلویزیونهای معیوب باشد که توسط هتل

خریداری شده است. تابع احتمال  $X$  را به دست آورید.

حل در اینجا  $S_X = \{0, 1, 2\}$  و بنابراین

$$f_X(0) = P(X=0) = \frac{\binom{2}{0} \binom{4}{2}}{\binom{6}{2}} = \frac{4}{20} = \frac{1}{5}$$

$$f_X(1) = P(X=1) = \frac{\binom{2}{1} \binom{4}{1}}{\binom{6}{2}} = \frac{12}{20} = \frac{3}{5}$$

$$f_X(2) = P(X=2) = \frac{\binom{2}{2} \binom{4}{1}}{\binom{6}{3}} = \frac{4}{20} = \frac{1}{5}$$

$x$	۰	۱	۲
$f_X(x)$	$\frac{1}{5}$	$\frac{3}{5}$	$\frac{1}{5}$

بنابراین تابع احتمال  $X$  برابر است با

مثال ۳.۶.۳ سکه‌ای به گونه‌ای طراحی شده است که احتمال شیر آمدن آن  $\frac{3}{4}$  و احتمال خط آمدن آن  $\frac{1}{4}$  است. سکه را ۳ مرتبه پرتاب می‌کنیم و متغیر تصادفی  $X$  را برابر تعداد شیرهای مشاهده شده در ۳ پرتاب سکه در نظر می‌گیریم. تابع احتمال  $X$  را به دست آورید و سپس تابع توزیع  $X$  و را  $P(X > 1)$  بیابید.

حل در اینجا  $S_X = \{0, 1, 2, 3\}$  و بنابراین

$$f_X(0) = P(X=0) = P(\{TTT\}) = \frac{1}{4} \times \frac{1}{4} \times \frac{1}{4} = \frac{1}{64}$$

$$f_X(1) = P(X=1) = P(\{TTH, THT, HTT\}) = 3P(\{TTH\})$$

$$= 3 \times \frac{1}{4} \times \frac{1}{4} \times \frac{3}{4} = \frac{9}{64}$$

با به دست آوردن احتمالات دیگر، تابع احتمال  $X$  به صورت زیر به دست می‌آید.

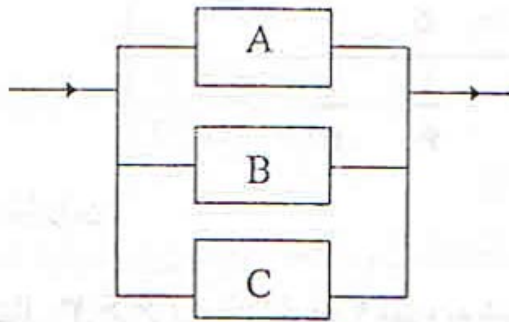
$x$	۰	۱	۲	۳
$f_X(x)$	$\frac{1}{64}$	$\frac{9}{64}$	$\frac{27}{64}$	$\frac{27}{64}$

با استفاده از فرمول (۲.۳) تابع توزیع  $X$  به صورت زیر به دست می‌آید.

$$F_X(x) = P(X \leq x) = \begin{cases} 0 & x < 0 \\ \frac{1}{64} & 0 \leq x < 1 \\ \frac{10}{64} & 1 \leq x < 2 \\ \frac{37}{64} & 2 \leq x < 3 \\ 1 & 3 \leq x \end{cases}$$

بنابراین  $P(X > 1) = 1 - P(X \leq 1) = 1 - F_X(1) = 1 - \frac{10}{64} = \frac{54}{64}$

مثال ۴.۶.۳ فرض کنید که در سیستم زیر اجزاء  $A$  و  $B$  و  $C$  مستقل از یکدیگر کار کنند.



احتمال اینکه A کار کند ۰/۹، B کار کند ۰/۸ و C کار کند ۰/۷ است. اگر متغیر تصادفی X نشان دهنده تعداد اجزائی باشد که در یک زمان معین کار می‌کنند، تابع احتمال X را به دست آورید.

حل اگر A، B و C به ترتیب پیشامد این باشند که اجزاء A، B و C در یک زمان معین کار کنند آنگاه A و B و C از یکدیگر مستقل هستند. در اینجا  $S_X = \{0, 1, 2, 3\}$  بنابراین

$$f_X(0) = P(X=0) = P(A' \cap B' \cap C') = P(A')P(B')P(C')$$

$$= (0/1)(0/2)(0/3) = 0/006$$

$$f_X(1) = P(X=1) = P(A \cap B' \cap C') + P(A' \cap B \cap C) + P(A' \cap B' \cap C)$$

$$= (0/9)(0/2)(0/3) + (0/1)(0/2)(0/7) + (0/1)(0/8)(0/3) = 0/092$$

به همین ترتیب تابع احتمال X به صورت زیر نتیجه می‌شود.

x	0	1	2	3
$f_X(x)$	0/006	0/092	0/398	0/504

مثال ۵.۶.۳ تحقیق کنید که تابع زیر یک تابع توزیع است و تابع احتمال برای W را تعیین کنید و با استفاده از آن  $P(3 < W \leq 5)$  را محاسبه کنید.

$$F_W(w) = \begin{cases} 0 & w < 3 \\ \frac{1}{3} & 3 \leq w < 4 \\ \frac{1}{2} & 4 \leq w < 5 \\ \frac{2}{3} & 5 \leq w < 6 \\ 1 & 6 \leq w \end{cases}$$

حل این تابع یک تابع غیرنزولی و از سمت راست پیوسته است و همچنین  $0 \leq F_W(w) \leq 1$  است. بنابراین  $F_W(w)$  یک تابع توزیع است. با استفاده از فرمول (۳.۳) تابع احتمال W به صورت زیر به دست می‌آید.

$w$	۳	۴	۵	۶
$f_w(w)$	$\frac{1}{3}$	$\frac{1}{6}$	$\frac{1}{6}$	$\frac{1}{3}$

و بنابراین  $P(3 < W \leq 5) = f_w(4) + f_w(5) = \frac{1}{6} + \frac{1}{6} = \frac{1}{3}$

مثال ۶.۶.۳ در یک ظرف ۴ مهره به شماره‌های ۱، ۲، ۳ و ۴ وجود دارد. از این ظرف دو مهره به تصادف و بدون جایگذاری انتخاب می‌کنیم و متغیر تصادفی  $X$  را برابر بزرگترین شماره روی دو مهره انتخابی در نظر می‌گیریم تابع احتمال  $X$  را به دست آورید. حل در این مساله فضای نمونه به صورت

$$S = \{ \{1, 2\}, \{1, 3\}, \{1, 4\}, \{2, 3\}, \{2, 4\}, \{3, 4\} \}$$

می‌باشد و  $S_X = \{2, 3, 4\}$  بنابراین  $f_X(2) = P(X=2) = P(\{\{1, 2\}\}) = \frac{1}{6}$

$f_X(3) = P(X=3) = P(\{\{1, 3\}, \{2, 3\}\}) = \frac{2}{6}$

$x$	۲	۳	۴
$f_X(x)$	$\frac{1}{6}$	$\frac{2}{6}$	$\frac{3}{6}$

به همین ترتیب داریم که

مثال ۷.۶.۳ فرض کنید متغیر تصادفی  $X$  دارای تابع چگالی احتمال زیر است

$$f_X(x) = \begin{cases} c(1+x) & 2 < x < 5 \\ 0 & \text{سایر نقاط} \end{cases}$$

الف- مقدار  $c$  را تعیین کنید.

ب- تابع توزیع  $X$  را به دست آورید.

حل الف- بایستی  $c \geq 0$  و همچنین

$$1 = \int_{-\infty}^{+\infty} f_X(x) dx = \int_2^5 c(1+x) dx = c \left[ x + \frac{1}{2}x^2 \right]_2^5 = c \left[ \left(5 + \frac{25}{2}\right) - \left(2 + 2\right) \right] = c \left( \frac{27}{2} \right)$$

بنابراین  $c = \frac{2}{27}$ .

ب- اگر  $x < 2$  آنگاه  $F_X(x) = 0$  و اگر  $x \geq 5$  آنگاه  $F_X(x) = 1$  و اگر  $2 \leq x < 5$  آنگاه

$$F_X(x) = \int_{-\infty}^x f_X(t) dt = \int_2^x \frac{2}{27}(1+t) dt = \frac{2}{27} \left[ t + \frac{1}{2}t^2 \right]_2^x = \frac{2}{27} \left[ x + \frac{1}{2}x^2 - 4 \right]$$

بنابراین

$$F_X(x) = \begin{cases} 0 & x < 2 \\ \frac{2}{27} \left[ \frac{1}{2}x^2 + x - 4 \right] & 2 \leq x < 5 \\ 1 & 5 \leq x \end{cases}$$

مثال ۸.۶.۳ اگر متغیر تصادفی  $X$  دارای تابع چگالی احتمال زیر باشد، تابع توزیع  $X$  را به دست آورید و  $P\left(\frac{1}{2} < X < \frac{3}{2}\right)$  را محاسبه کنید.

$$f_X(x) = \begin{cases} x & 0 < x < 1 \\ 2-x & 1 \leq x < 2 \\ 0 & \text{سایر نقاط} \end{cases}$$

حل اگر  $x < 0$  آنگاه  $F_X(x) = 0$  و اگر  $0 \leq x < 1$  آنگاه

$$F_X(x) = \int_{-\infty}^x f_X(t) dt = \int_0^x t dt = \frac{1}{2}t^2 \Big|_0^x = \frac{1}{2}x^2$$

و اگر  $0 \leq x < 2$  آنگاه

$$F_X(x) = \int_{-\infty}^x f_X(t) dt = \int_0^1 t dt + \int_1^x (2-t) dt = \frac{1}{2} + \left[ 2t - \frac{1}{2}t^2 \right]_1^x = 2x - \frac{1}{2}x^2 - 1$$

بنابراین

$$F_X(x) = \begin{cases} 0 & x < 0 \\ \frac{1}{2}x^2 & 0 \leq x < 1 \\ 2x - \frac{1}{2}x^2 - 1 & 1 \leq x < 2 \\ 1 & 2 \leq x \end{cases}$$

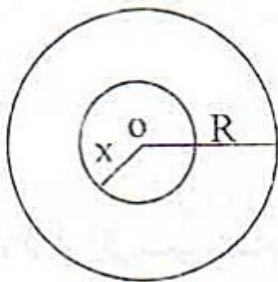
در نتیجه

$$P\left(\frac{1}{2} < X < \frac{3}{2}\right) = F_X\left(\frac{3}{2}\right) - F_X\left(\frac{1}{2}\right) = \left[ 2\left(\frac{3}{2}\right) - \frac{1}{2}\left(\frac{3}{2}\right)^2 - 1 \right] - \left[ \frac{1}{2}\left(\frac{1}{2}\right)^2 \right] = \frac{3}{4}$$

مثال ۹.۶.۳ نقطه‌ای به تصادف از داخل دایره‌ای به شعاع  $R$  انتخاب می‌کنیم و متغیر تصادفی  $X$  را برابر فاصله نقطه انتخابی تا مرکز دایره در نظر می‌گیریم.

الف- تابع توزیع  $X$  را به دست آورید.

ب- تابع احتمال  $X$  را به دست آورید و  $P\left(\frac{R}{3} < X < \frac{R}{2}\right)$  را محاسبه کنید.



حـل الف- اگر  $x < 0$  آنگاه

$F_X(x) = P(X \leq x) = 0$  و اگر  $0 \leq x < R$  آنگاه

با توجه به شکل مقابل داریم که

$$F_X(x) = P(X \leq x) = \frac{\text{مساحت دایره به شعاع } x}{\text{مساحت دایره به شعاع } R} = \frac{\pi x^2}{\pi R^2} = \left(\frac{x}{R}\right)^2$$

و اگر  $x \geq R$  آنگاه  $F_X(x) = P(X \leq x) = 1$  و بنابراین

$$F_X(x) = \begin{cases} 0 & x < 0 \\ \left(\frac{x}{R}\right)^2 & 0 \leq x < R \\ 1 & R \leq x \end{cases}$$

ب- با توجه به رابطه (۵.۳) داریم که

$$f_X(x) = F'_X(x) = \begin{cases} \frac{2x}{R^2} & 0 < x < R \\ 0 & \text{سایر نقاط} \end{cases}$$

و در نتیجه

$$P\left(\frac{R}{3} < X < \frac{R}{2}\right) = \int_{\frac{R}{3}}^{\frac{R}{2}} \frac{2x}{R^2} dx = \left[\left(\frac{x}{R}\right)^2\right]_{\frac{R}{3}}^{\frac{R}{2}} = \frac{1}{4} - \frac{1}{9} = \frac{5}{36}$$

مثال ۱۰.۶.۳ میانه متغیر تصادفی  $X$  عددی است مانند  $m$  که در روابط  $P(X \leq m) \geq \frac{1}{2}$  و

$P(X \geq m) \geq \frac{1}{2}$  صدق کند. اگر  $X$  یک متغیر تصادفی پیوسته باشد آنگاه میانه در رابطه

احتمال و یا چگالی احتمال زیر است را پیدا کنید.  $F_X(m) = \int_{-\infty}^m f_X(x) dx = \frac{1}{2}$

احتمال و یا چگالی احتمال زیر است را پیدا کنید.

الف-  $f_X(x) = e^{-x} e^{-e^{-x}} \quad -\infty < x < +\infty$

ب-  $f_X(x) = \binom{4}{x} \left(\frac{2}{3}\right)^x \left(\frac{1}{3}\right)^{4-x} \quad x = 0, 1, 2, 3, 4$

حل الف- متغیر تصادفی  $X$  از نوع پیوسته است. بنابراین بایستی  $\int_{-\infty}^m e^{-x} e^{-e^{-x}} dx = \frac{1}{2}$  باشد. با

تغییر متغیر  $y = e^{-x}$  داریم که

$$\int_{e^{-m}}^{+\infty} e^{-y} dy = \frac{1}{2} \Rightarrow -e^{-y} \Big|_{e^{-m}}^{+\infty} = \frac{1}{2} \Rightarrow e^{-e^{-m}} = \frac{1}{2} \Rightarrow m = -\text{Ln}(\text{Ln } 2)$$

ب- متغیر تصادفی  $X$  از نوع گسسته با تابع احتمال زیر است

$x$	۰	۱	۲	۳	۴
$f_X(x)$	$\frac{1}{81}$	$\frac{8}{81}$	$\frac{24}{81}$	$\frac{32}{81}$	$\frac{16}{81}$

بنابراین

$$P(X \leq 3) = 1 - P(X = 4) = 1 - \frac{16}{81} = \frac{65}{81} \geq \frac{1}{2}$$

$$P(X \geq 3) = \frac{32}{81} + \frac{16}{81} = \frac{48}{81} \geq \frac{1}{2}$$

و در نتیجه  $m=3$  است.

مثال ۱۱.۶.۳ اگر متغیر تصادفی  $X$  دارای تابع توزیع زیر باشد، تابع چگالی احتمال و

$P(X > 3)$  را محاسبه کنید

$$F_X(x) = \begin{cases} 0 & x < 0 \\ 1 - (1+x)e^{-x} & x \geq 0 \end{cases}$$

حل با توجه به رابطه (۵.۳) داریم که

$$f_X(x) = F'_X(x) = -e^{-x} + (1+x)e^{-x} = xe^{-x}$$

در نتیجه

$$f_X(x) = \begin{cases} xe^{-x} & x > 0 \\ 0 & \text{سایر نقاط} \end{cases}$$

$$P(X > 3) = \int_3^{+\infty} xe^{-x} dx = (-x-1)e^{-x} \Big|_3^{+\infty} = 4e^{-3}$$

و همچنین

مثال ۱۲.۶.۳ فرض کنید متغیر تصادفی  $X$  دارای تابع چگالی احتمال زیر باشد

$$f_X(x) = \begin{cases} ke^{-2x}(1-e^{-2x}) & x > 0 \\ 0 & \text{سایر نقاط} \end{cases}$$

الف- مقدار  $k$  را تعیین کنید.

ب- تابع توزیع  $X$  را به دست آورید و  $P(X > 1)$  را محاسبه کنید.

حل الف- بایستی  $k \geq 0$  و همچنین

$$1 = \int_0^{+\infty} ke^{-2x}(1-e^{-2x}) dx = k \int_0^{+\infty} (e^{-2x} - e^{-4x}) dx$$

$$= k \left[ -\frac{1}{2}e^{-2x} + \frac{1}{4}e^{-4x} \right]_0^{+\infty} = k \left( \frac{1}{2} - \frac{1}{4} \right) = k \left( \frac{1}{4} \right)$$

بنابراین  $k = 4$ .ب- اگر  $x < 0$  آنگاه  $F_X(x) = 0$  و اگر  $x \geq 0$  آنگاه

$$\begin{aligned} F_X(x) &= \int_{-\infty}^x f_X(t) dt = \int_0^x 4e^{-2t}(1-e^{-2t}) dt \\ &= 4 \left[ -\frac{1}{2}e^{-2t} + \frac{1}{4}e^{-4t} \right]_0^x \\ &= 4 \left[ -\frac{1}{2}e^{-2x} + \frac{1}{4}e^{-4x} + \frac{1}{2} - \frac{1}{4} \right] = 1 - e^{-2x}(2 - e^{-2x}) \end{aligned}$$

بنابراین

$$F_X(x) = \begin{cases} 0 & x < 0 \\ 1 - e^{-2x}(2 - e^{-2x}) & x \geq 0 \end{cases}$$

$$P(X > 1) = 1 - F_X(1) = e^{-2}(2 - e^{-2}) = 0.252 \quad \text{و در نتیجه}$$

مثال ۱۳.۶.۳ اگر متغیرهای تصادفی  $X$  و  $Y$  دارای تابع احتمال توأم زیر باشند

$$f_{X,Y}(x,y) = \begin{cases} k(x^2 + y^2) & x = 1, 2, y = 0, 1, 2 \\ 0 & \text{سایر نقاط} \end{cases}$$

الف - مقدار  $k$  را پیدا کنید.ب-  $P(Y < 2 | X = 1)$  را محاسبه کنید.ج- آیا  $X$  و  $Y$  مستقل هستند؟ چرا؟

$$1 = \sum_{x=1}^2 \sum_{y=0}^2 k(x^2 + y^2) = k(1+2+5+4+5+8) = k(25) \quad \text{حل الف-}$$

بنابراین  $k = \frac{1}{25}$  و در نتیجه جدول توزیع احتمالات توأم  $X$  و  $Y$  به صورت زیر به دست می آید.

$x \backslash y$	۱	۲	$f_Y(y)$
۰	$\frac{1}{25}$	$\frac{4}{25}$	$\frac{5}{25}$
۱	$\frac{2}{25}$	$\frac{5}{25}$	$\frac{7}{25}$
۲	$\frac{5}{25}$	$\frac{8}{25}$	$\frac{13}{25}$
$f_X(x)$	$\frac{8}{25}$	$\frac{17}{25}$	



ب- با توجه به رابطه (۱۳.۳) تابع احتمال شرطی  $f_{Y|X}(y|1)$  به صورت زیر به دست می‌آید

$y$	۰	۱	۲
$f_{Y X}(y 1)$	$\frac{1}{8}$	$\frac{2}{8}$	$\frac{5}{8}$

$$P(Y < 2 | X = 1) = \sum_{y=0}^1 f_{Y|X}(y|1) = \frac{1}{8} + \frac{2}{8} = \frac{3}{8} \quad \text{بنابراین}$$

ج- چون  $f_{X,Y}(1,0) = \frac{1}{25}$  و  $f_Y(0) = \frac{5}{25}$ ،  $f_X(1) = \frac{8}{25}$

$$f_{X,Y}(1,0) \neq f_X(1)f_Y(0)$$

بنابراین  $X$  و  $Y$  از یکدیگر مستقل نیستند.

مثال ۱۴.۶.۳ تابع چگالی توأم متغیرهای تصادفی  $X$  و  $Y$  به صورت زیر است:

$$f_{X,Y}(x,y) = \begin{cases} cye^{-y(x+1)} & x > 0, y > 0 \\ 0 & \text{سایر نقاط} \end{cases}$$

الف- مقدار  $c$  را تعیین کنید.

ب-  $P(XY > 1)$  و  $P(X < 2 | Y = 3)$  را محاسبه کنید.

$$\begin{aligned} 1 &= \int_0^{+\infty} \int_0^{+\infty} cye^{-y(x+1)} dx dy = c \int_0^{+\infty} ye^{-y} \left[ \int_0^{+\infty} e^{-yx} dx \right] dy \quad \text{حل الف-} \\ &= c \int_0^{+\infty} ye^{-y} \left( \frac{1}{y} \right) dy = c \int_0^{+\infty} e^{-y} dy = c [-e^{-y}]_0^{+\infty} = c(1) = c \end{aligned}$$

بنابراین  $c=1$ .

$$P(XY > 1) = P\left(X > \frac{1}{Y}\right) = \int_{\frac{1}{y}}^{+\infty} \int_0^{+\infty} ye^{-y(x+1)} dx dy \quad \text{ب-}$$

$$= \int_0^{+\infty} ye^{-y} \left[ \int_{\frac{1}{y}}^{+\infty} e^{-yx} dx \right] dy = \int_0^{+\infty} ye^{-y} \left( \frac{1}{y} e^{-1} \right) dy$$

$$= e^{-1} \int_0^{+\infty} e^{-y} dy = e^{-1}$$

برای محاسبه  $P(X < 2 | Y = 3)$  بایستی ابتدا تابع  $f_{X|Y}(x|y)$  را به دست آوریم.

$$f_Y(y) = \int_0^{+\infty} ye^{-y(x+1)} dx = ye^{-y} \left[ \int_0^{+\infty} e^{-yx} dx \right] = ye^{-y} \left( \frac{1}{y} \right) = e^{-y} \quad y > 0$$

$$f_{X|Y}(x|y) = \frac{f_{X,Y}(x,y)}{f_Y(y)} = \frac{ye^{-y(x+1)}}{e^{-y}} = ye^{-yx}$$

بنابراین

$$P(X < 2 | Y=3) = \int_0^2 f_{X|Y}(x|3) dx = \int_0^2 3e^{-3x} dx = -e^{-3x} \Big|_0^2 = 1 - e^{-6}$$

مثال ۱۵.۶.۳ بر یک طرف یک سکه سالم عدد ۱ و بر طرف دیگر آن عدد ۲ نقاشی شده است. این سکه ۳ بار پرتاب می‌شود. اگر متغیر تصادفی  $X$  برابر مجموع دو عدد حاصل از دو پرتاب اول و متغیر تصادفی  $Y$  برابر مجموع دو عدد حاصل از دو پرتاب آخر باشد، تابع احتمال توأم  $X$  و  $Y$  را به دست آورید و  $P(X+Y > 6)$  را محاسبه کنید. آیا  $X=Y$  است؟ آیا  $f_X(x) = f_Y(y)$  است؟

حل در اینجا  $S_X = S_Y = \{2, 3, 4\}$  و همچنین

$$f_{X,Y}(2,2) = P(X=2, Y=2) = P(\{1,1,1\}) = \frac{1}{8}$$

$$f_{X,Y}(2,3) = P(X=2, Y=3) = P(\{1,1,2\}) = \frac{1}{8}$$

با انجام محاسبات مربوط به نقاط دیگر، جدول زیر را به دست می‌آوریم.

$x \backslash y$	۲	۳	۴	$f_Y(y)$
۲	$\frac{1}{8}$	$\frac{1}{8}$	۰	$\frac{2}{8}$
۳	$\frac{1}{8}$	$\frac{2}{8}$	$\frac{1}{8}$	$\frac{4}{8}$
۴	۰	$\frac{1}{8}$	$\frac{1}{8}$	$\frac{2}{8}$
$f_X(x)$	$\frac{2}{8}$	$\frac{4}{8}$	$\frac{2}{8}$	

بنابراین

$$P(X+Y > 6) = f_{X,Y}(3,4) + f_{X,Y}(4,3) + f_{X,Y}(4,4) = \frac{1}{8} + \frac{1}{8} + \frac{1}{8} = \frac{3}{8}$$

با توجه به جدول توزیع احتمالات توأم  $X$  و  $Y$  دیده می‌شود که  $f_X(x) = f_Y(y)$  اما  $X$  برابر  $Y$  نیست. در این حالت گویند که متغیرهای تصادفی  $X$  و  $Y$  هم توزیع هستند.

مثال ۱۶.۶.۳ فرض کنید متغیرهای تصادفی  $X$  و  $Y$  دارای تابع چگالی احتمال توأم زیر باشند.

$$f_{X,Y}(x,y) = \begin{cases} \frac{c}{y} & 0 < x < y, \quad 0 < y < 1 \\ 0 & \text{سایر نقاط} \end{cases}$$

الف - مقدار  $c$  را تعیین کنید.

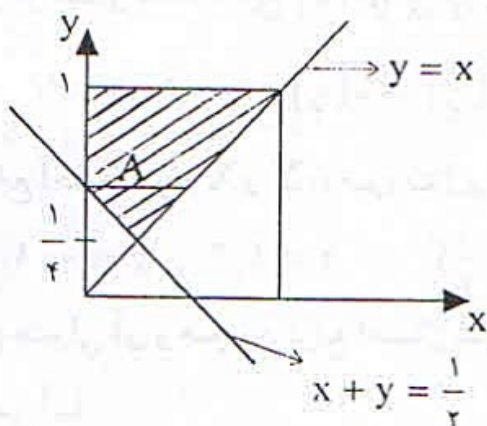
ب -  $P(X+Y > \frac{1}{4})$  را محاسبه کنید.

ج - آیا  $X$  و  $Y$  مستقل هستند؟ چرا؟

$$1 = \int_0^1 \int_0^y \frac{c}{y} dx dy = \int_0^1 \frac{c}{y} [x]_0^y dy = \int_0^1 c dy = cy \Big|_0^1 = c$$

حل الف -

بنابراین  $c=1$ .



ب - با توجه به نمودار زیر داریم که

$$\begin{aligned} P(X+Y > \frac{1}{4}) &= \iint_A f_{X,Y}(x,y) dx dy = \int_{\frac{1}{4}}^{\frac{1}{2}} \int_{\frac{1}{4}-y}^y \frac{1}{y} dx dy + \int_{\frac{1}{4}}^1 \int_0^y \frac{1}{y} dx dy \\ &= \int_{\frac{1}{4}}^{\frac{1}{2}} (2 - \frac{1}{2y}) dy + \int_{\frac{1}{4}}^1 dy = \left[ 2y - \frac{1}{2} \ln y \right]_{\frac{1}{4}}^{\frac{1}{2}} + [y]_{\frac{1}{4}}^1 \\ &= (1 + \frac{1}{2} \ln 2) - (\frac{1}{2} + \frac{1}{2} \ln 4) + \frac{3}{4} = 1 - \frac{1}{2} \ln 2 = 0.653 \end{aligned}$$

$$f_X(x) = \int_x^1 \frac{1}{y} dy = \ln y \Big|_x^1 = -\ln x \quad 0 < x < 1$$

ج - با توجه به اینکه

$$f_Y(y) = \int_0^y \frac{1}{y} dx = \frac{x}{y} \Big|_0^y = 1 \quad 0 < y < 1$$

بنابراین  $f_{X,Y}(x,y) \neq f_X(x)f_Y(y)$  پس  $X$  و  $Y$  از یکدیگر مستقل نیستند.

مثال ۱۷.۶.۳ فرض کنید برای متغیرهای تصادفی  $X$  و  $Y$  داشته باشیم که

$$f_X(x) = \begin{cases} c_1 x & x = 1, 2 \\ 0 & \text{سایر نقاط} \end{cases}$$

$$f_{Y|X}(y|x) = \begin{cases} c_1 \binom{x}{y} \left(\frac{1}{y}\right)^x & x=1, 2, y=0, 1, \dots, x \\ \text{سایر نقاط} & \end{cases}$$

الف- مقدار  $c_1$  و  $c_2$  را تعیین کنید.

ب-  $P(Y < 2 | X = 2)$  و  $P(X > 1 | Y = 1)$  را محاسبه کنید.

حل الف-  $f_X(x)$  یک تابع احتمال است بنابراین

$$1 = \sum_{x=1}^2 f_X(x) = c_1 + 2c_1 = 3c_1 \Rightarrow c_1 = \frac{1}{3}$$

و برای هر مقدار ثابت  $x$  تابع  $f_{Y|X}(y|x)$  یک تابع احتمال است بنابراین برای  $x=1$  داریم که

$$1 = \sum_{y=0}^1 f_{Y|X}(y|1) = \sum_{y=0}^1 c_2 \binom{1}{y} \left(\frac{1}{y}\right) = c_2 \left(\frac{1}{y}\right) + c_2 \left(\frac{1}{y}\right) = c_2 \Rightarrow c_2 = 1$$

ب- تابع احتمال توأم  $X$  و  $Y$  به صورت زیر به دست می آید.

$$f_{X,Y}(x,y) = f_X(x)f_{Y|X}(y|x) = \frac{1}{3}x \binom{x}{y} \left(\frac{1}{y}\right)^x \quad x=1, 2, y=0, 1, \dots, x$$

که فرم جدولی آن و همچنین توابع احتمال شرطی  $f_{Y|X}(y|2)$  و  $f_{X|Y}(x|1)$  به صورت زیر به دست می آیند.

$x \backslash y$	۱	۲	$f_Y(y)$
۰	$\frac{1}{6}$	$\frac{1}{6}$	$\frac{2}{6}$
۱	$\frac{1}{6}$	$\frac{2}{6}$	$\frac{3}{6}$
۲	۰	$\frac{1}{6}$	$\frac{1}{6}$
$f_X(x)$	$\frac{2}{6}$	$\frac{4}{6}$	

$y$	۰	۱	۲
$f_{Y X}(y 2)$	$\frac{1}{4}$	$\frac{2}{4}$	$\frac{1}{4}$

$x$	۱	۲
$f_{X Y}(x 1)$	$\frac{1}{3}$	$\frac{2}{3}$

$$P(Y < 2 | X = 2) = \sum_{y=0}^1 f_{Y|X}(y|2) = \frac{1}{4} + \frac{2}{4} = \frac{3}{4} \quad \text{بنابراین}$$

$$P(X > 1 | Y = 1) = f_{X|Y}(2|1) = \frac{2}{3}$$

مثال ۱۸.۶.۳ فرض کنید که متغیرهای تصادفی  $X$  و  $Y$  دارای تابع چگالی احتمال توأم زیر باشند

که در آن  $\lambda > 0$  مقداری ثابت است.

$$f_{X,Y}(x,y) = \begin{cases} cxe^{-\lambda(x+y)} & x > 0, y > 0 \\ 0 & \text{سایر نقاط} \end{cases}$$

الف - مقدار  $c$  را تعیین کنید.

ب -  $P(X > 2)$  را محاسبه کنید.

ج - آیا  $X$  و  $Y$  مستقل هستند؟ چرا؟

حل الف - با استفاده از انتگرال گیری به روش جزء به جزء داریم که

$$\begin{aligned} 1 &= \int_0^{+\infty} \int_0^{+\infty} cxe^{-\lambda(x+y)} dx dy = c \left[ \int_0^{+\infty} xe^{-\lambda x} dx \right] \left[ \int_0^{+\infty} e^{-\lambda y} dy \right] \\ &= c \left[ \left( -\frac{x}{\lambda} - \frac{1}{\lambda^2} \right) e^{-\lambda x} \right]_0^{+\infty} \left[ -\frac{1}{\lambda} e^{-\lambda y} \right]_0^{+\infty} = c \left( \frac{1}{\lambda^2} \right) \left( \frac{1}{\lambda} \right) = \frac{c}{\lambda^3} \end{aligned}$$

بنابراین  $c = \lambda^3$

ب - برای محاسبه احتمال، ابتدا  $f_X(x)$  را به دست می آوریم.

$$f_X(x) = \int_0^{+\infty} \lambda^3 xe^{-\lambda(x+y)} dy = \lambda^3 xe^{-\lambda x} \left[ \int_0^{+\infty} \lambda e^{-\lambda y} dy \right] = \lambda^3 xe^{-\lambda x} \quad x > 0$$

بنابراین

$$P(X > 2) = \int_2^{+\infty} \lambda^3 xe^{-\lambda x} dx = \left[ (-\lambda x - 1) e^{-\lambda x} \right]_2^{+\infty} = (2\lambda + 1) e^{-2\lambda}$$

ج - با توجه به اینکه  $f_X(x) = \lambda^3 xe^{-\lambda x}$  و همچنین

$$f_Y(y) = \int_0^{+\infty} \lambda^3 xe^{-\lambda(x+y)} dx = \lambda e^{-\lambda y} \left[ (-\lambda x - 1) e^{-\lambda x} \right]_0^{+\infty} = \lambda e^{-\lambda y} \quad y > 0$$

پس  $f_{X,Y}(x,y) = f_X(x)f_Y(y)$  و در نتیجه  $X$  و  $Y$  از یکدیگر مستقل هستند.

مثال ۱۹.۶.۳ جعبه ای شامل ۴ ترانزیستور است و می دانیم ۲ عدد از آنها معیوب هستند.

ترانزیستورها را یک به یک آزمایش نموده تا هر دو معیوب مشخص شوند و سپس توقف می کنیم.

اگر  $X$  برابر تعداد آزمایشهای لازم تا مشخص شدن اولین معیوب و  $Y$  برابر تعداد آزمایشهای

اضافی تا مشخص شدن دومین معیوب باشند، تابع احتمال توأم  $X$  و  $Y$  را به دست آورید و

$P(X \leq 2 | Y = 1)$  را محاسبه کنید.

حل در اینجا  $S_X = S_Y = \{1, 2, 3\}$  اگر مشاهده ترانزیستور سالم را با  $S$  و خراب را با  $D$

نمایش دهیم در این صورت

$$f_{X,Y}(1,1) = P(DD) = \frac{2}{4} \times \frac{1}{3} = \frac{1}{6} \quad f_{X,Y}(1,2) = P(DSD) = \frac{2}{4} \times \frac{2}{3} \times \frac{1}{2} = \frac{1}{6}$$

$$f_{X,Y}(1,3) = P(DSSD) = \frac{2}{4} \times \frac{2}{3} \times \frac{1}{2} \times 1 = \frac{1}{6}$$

با محاسبه احتمالات مربوط به نقاط دیگر، جدول توزیع احتمالات توأم و تابع احتمال

$f_{X|Y}(x|1)$  به صورت زیر به دست می آیند.

$x \backslash y$	۱	۲	۳	$f_Y(y)$
۱	$\frac{1}{6}$	$\frac{1}{6}$	$\frac{1}{6}$	$\frac{3}{6}$
۲	$\frac{1}{6}$	$\frac{1}{6}$	۰	$\frac{2}{6}$
۳	$\frac{1}{6}$	۰	۰	$\frac{1}{6}$
$f_X(x)$	$\frac{3}{6}$	$\frac{2}{6}$	$\frac{1}{6}$	

$x$	۱	۲	۳
$f_{X Y}(x 1)$	$\frac{1}{3}$	$\frac{1}{3}$	$\frac{1}{3}$

$$P(X \leq 2 | Y=1) = \sum_{x=1}^2 f_{X|Y}(x|1) = \frac{1}{3} + \frac{1}{3} = \frac{2}{3}$$

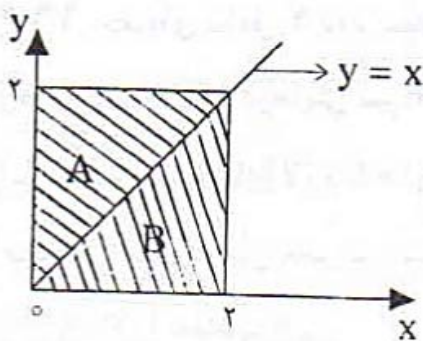
بنابراین

مثال ۳.۶.۲ فرض کنید متغیرهای تصادفی  $X$  و  $Y$  دارای تابع چگالی احتمال توأم زیر باشند.

$$f_{X,Y}(x,y) = \begin{cases} e^{-y}(1-e^{-x}) & 0 < x < y < +\infty \\ e^{-x}(1-e^{-y}) & 0 < y < x < +\infty \\ 0 & \text{سایر نقاط} \end{cases}$$

مطلوب است محاسبه احتمال  $P(X \leq 2, Y \leq 2)$  و  $P(X \leq 2 | Y=3)$

حل با توجه به نمودار زیر داریم که



$$P(X \leq 2, Y \leq 2) = \int\int_A e^{-y}(1-e^{-x}) dx dy + \int\int_B e^{-x}(1-e^{-y}) dx dy$$

$$\begin{aligned}
&= \int_0^2 \int_0^y e^{-y} (1 - e^{-x}) dx dy + \int_0^2 \int_y^x e^{-x} (1 - e^{-y}) dy dx \\
&= 2 \int_0^2 \int_0^y e^{-y} (1 - e^{-x}) dx dy = 2 \int_0^2 e^{-y} [x + e^{-x}]_0^y dy \\
&= 2 \int_0^2 e^{-y} (y + e^{-y} - 1) dy = 2 \left[ -ye^{-y} - \frac{1}{2}e^{-2y} \right]_0^2 \\
&= 2 \left[ -2e^{-2} - \frac{1}{2}e^{-4} + \frac{1}{2} \right] = 1 - 4e^{-2} - e^{-4} = 0.44
\end{aligned}$$

برای محاسبه  $P(X \leq 2 | Y=3)$  ابتدا تابع  $f_{X|Y}(x|y)$  را به دست می آوریم.

$$\begin{aligned}
f_Y(y) &= \int_0^y e^{-y} (1 - e^{-x}) dx + \int_y^{+\infty} e^{-x} (1 - e^{-y}) dx \\
&= e^{-y} [x + e^{-x}]_0^y + (1 - e^{-y}) [-e^{-x}]_y^{+\infty} \\
&= e^{-y} (y + e^{-y} - 1) + (1 - e^{-y}) e^{-y} = ye^{-y} \quad 0 < y < +\infty
\end{aligned}$$

$$f_{X|Y}(x|y) = \frac{f_{X,Y}(x,y)}{f_Y(y)} = \begin{cases} \frac{1 - e^{-x}}{y} & 0 < x < y < +\infty \\ \frac{e^{-x}(1 - e^{-y})}{ye^{-y}} & 0 < y < x < +\infty \\ \cdot & \text{سایر نقاط} \end{cases}$$

بنابراین

$$\begin{aligned}
P(X \leq 2 | Y=3) &= \int_0^2 f_{X|Y}(x|3) dx = \int_0^2 \frac{1 - e^{-x}}{3} dx = \frac{1}{3} [x + e^{-x}]_0^2 \\
&= \frac{1 + e^{-2}}{3} = 0.378
\end{aligned}$$

مثال ۲۱.۶.۳ جعبه A شامل ۲ مهره سفید و ۳ مهره سیاه و جعبه B شامل ۱ مهره سفید و ۲ مهره سیاه است. بدون جایگذاری ۲ مهره از جعبه A به جعبه B منتقل می کنیم و سپس از جعبه B بدون جایگذاری ۲ مهره خارج می کنیم. اگر X برابر تعداد مهره های سفید منتقل شده به جعبه B و Y برابر تعداد مهره های سفید خارج شده از جعبه B باشند، تابع احتمال توأم X و Y را به دست آورده و  $P(X+Y > 2)$  را محاسبه کنید.

حل در اینجا  $S_X = S_Y = \{0, 1, 2\}$  و همچنین

$$f_{X,Y}(0,0) = P(X=0, Y=0) = P(X=0)P(Y=0|X=0)$$

$$= \frac{\binom{2}{2}}{\binom{5}{2}} \times \frac{\binom{2}{2}}{\binom{5}{2}} = 0/18$$

$$f_{X,Y}(0,1) = P(X=0, Y=1) = P(X=0)P(Y=1|X=0)$$

$$= \frac{\binom{2}{2}}{\binom{5}{2}} \times \frac{\binom{1}{1} \binom{2}{1}}{\binom{5}{2}} = 0/12$$

$$f_{X,Y}(1,0) = P(X=1, Y=0) = P(X=1)P(Y=0|X=1)$$

$$= \frac{\binom{1}{1} \binom{2}{1}}{\binom{5}{2}} \times \frac{\binom{2}{2}}{\binom{5}{2}} = 0/18$$

با انجام محاسبات مشابه جدول توزیع احتمالات توأم  $X$  و  $Y$  به صورت زیر به دست می آید.

	$x$	۰	۱	۲
$y$				
۰		۰/۱۸	۰/۱۸	۰/۰۱
۱		۰/۱۲	۰/۳۶	۰/۰۶
۲		۰	۰/۰۶	۰/۰۳

$$P(X+Y > 2) = f_{X,Y}(2,1) + f_{X,Y}(1,2) + f_{X,Y}(2,2)$$

بنابراین

$$= 0/06 + 0/06 + 0/03 = 0/15$$

مثال ۲۲.۶.۳ فرض کنید متغیرهای تصادفی  $X$  و  $Y$  دارای تابع چگالی احتمال توأم زیر باشند.

$$f_{X,Y}(x,y) = \begin{cases} cx(x-y) & -x < y < x, \quad 0 < x < 2 \\ 0 & \text{سایر نقاط} \end{cases}$$

الف- مقدار  $c$  را تعیین کنید.

ب-  $f_Y(y)$  و  $P(2Y > X)$  و  $P(Y < \frac{1}{4} | X=1)$  را محاسبه کنید.

$$1 = c \int_0^2 \int_{-x}^x x(x-y) dy dx = c \int_0^2 \left[ x^2 y - \frac{x}{2} y^2 \right]_{-x}^x dx$$

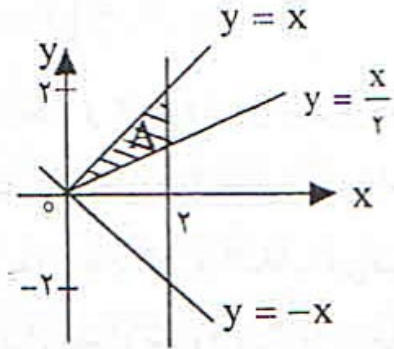
حل الف-

$$= c \int_0^2 2x^2 dx = \frac{c}{3} x^3 \Big|_0^2 = 2c \Rightarrow c = \frac{1}{4}$$



ب- با توجه به نمودار زیر داریم که

$$f_Y(y) = \begin{cases} \int_y^2 \frac{1}{8} x(x-y) dx & 0 < y < 2 \\ \int_{-y}^2 \frac{1}{8} x(x-y) dx & -2 < y < 0 \end{cases}$$



$$= \begin{cases} \frac{1}{8} \left[ \frac{1}{3} x^3 - \frac{y}{2} x^2 \right]_y^2 & 0 < y < 2 \\ \frac{1}{8} \left[ \frac{1}{3} x^3 - \frac{y}{2} x^2 \right]_{-y}^2 & -2 < y < 0 \end{cases}$$

بنابراین

$$f_Y(y) = \begin{cases} \frac{1}{8} \left[ \frac{5}{6} y^2 - 2y + \frac{1}{3} \right] & -2 < y < 0 \\ \frac{1}{8} \left[ \frac{1}{6} y^2 - 2y + \frac{1}{3} \right] & 0 < y < 2 \\ \cdot & \text{سایر نقاط} \end{cases}$$

با توجه به نمودار بالا داریم که

$$P(2Y > X) = \int_0^2 \int_{\frac{x}{2}}^x \frac{1}{8} x(x-y) dy dx = \int_0^2 \frac{1}{8} \left[ x^2 y - \frac{x}{2} y^2 \right]_{\frac{x}{2}}^x dx$$

$$= \frac{1}{64} \int_0^2 x^2 dx = \frac{1}{64} \left[ \frac{1}{3} x^3 \right]_0^2 = \frac{1}{16}$$

برای محاسبه  $P(Y < \frac{1}{2} | X=1)$  بایستی ابتدا  $f_{Y|X}(y|x)$  را محاسبه کنیم.

$$f_X(x) = \int_{-x}^x \frac{1}{8} x(x-y) dy = \frac{1}{8} \left[ x^2 y - \frac{x}{2} y^2 \right]_{-x}^x = \frac{1}{4} x^2 \quad 0 < x < 2$$

$$f_{Y|X}(y|x) = \frac{f_{X,Y}(x,y)}{f_X(x)} = \frac{\frac{1}{8} x(x-y)}{\frac{1}{4} x^2} = \frac{1}{2} \frac{x-y}{x^2} \quad 0 < x < 2, -x < y < x$$

بنابراین

$$P(Y < \frac{1}{2} | X=1) = \int_{-1}^{\frac{1}{2}} f_{Y|X}(y|1) dy = \int_{-1}^{\frac{1}{2}} \frac{1}{2} (1-y) dy$$

$$= \frac{1}{2} \left[ y - \frac{1}{2} y^2 \right]_{-1}^{\frac{1}{2}} = \frac{15}{16}$$

مثال ۲۳.۶.۳ دو جعبه وجود دارند که جعبه اول دارای ۳ مهره سفید و ۲ مهره قرمز است و جعبه دوم دارای ۲ مهره سفید و ۳ مهره قرمز است. از جعبه اول یک مهره به تصادف انتخاب و در داخل جعبه دوم قرار می‌دهیم و سپس از جعبه دوم ۲ مهره یک به یک و بدون جایگذاری انتخاب می‌کنیم. اگر  $X$  برابر تعداد مهره‌های سفید انتخاب شده از جعبه دوم و  $Y$  برابر تعداد مهره‌های قرمز انتخاب شده از جعبه دوم باشند، تابع احتمال توأم  $X$  و  $Y$  را به دست آورید.

حل در اینجا  $S_X = S_Y = \{0, 1, 2\}$  و همواره داریم که  $X + Y = 2$ ، چون از جعبه دوم یا مهره سفید و یا مهره قرمز خارج می‌شود. اگر  $W_1$  و  $R_1$  به ترتیب پیشامد انتخاب مهره سفید و مهره قرمز از جعبه اول و  $WR_2$  و  $RR_2$  و  $WW_2$  به ترتیب پیشامد انتخاب دو مهره سفید، دو مهره قرمز و انتخاب یک مهره سفید و یک مهره قرمز از جعبه دوم باشند در این صورت

$$f_{X,Y}(0,2) = P(RR_2) = P(W_1 \cap RR_2) + P(R_1 \cap RR_2)$$

$$= \frac{3}{5} \times \frac{\binom{2}{2}}{\binom{6}{2}} + \frac{2}{5} \times \frac{\binom{4}{2}}{\binom{6}{2}} = \frac{21}{75}$$

$$f_{X,Y}(1,1) = P(WR_2) = P(W_1 \cap WR_2) + P(R_1 \cap WR_2)$$

$$= \frac{3}{5} \times \frac{\binom{2}{1} \binom{2}{1}}{\binom{6}{2}} + \frac{2}{5} \times \frac{\binom{2}{1} \binom{4}{1}}{\binom{6}{2}} = \frac{43}{75}$$

و به همین ترتیب  $f_{X,Y}(2,0) = P(WW_2) = \frac{11}{75}$  و در نتیجه تابع احتمال توأم  $X$  و  $Y$  به صورت زیر به دست می‌آید.

	$x$	0	1	2
$y$		0	1	2
0		0	0	$\frac{11}{75}$
1		0	$\frac{43}{75}$	0
2		$\frac{21}{75}$	0	0

مثال ۲۴.۶.۳ فرض کنید متغیرهای تصادفی  $X, Y, Z$  دارای تابع چگالی احتمال توأم زیر باشند

$$f_{X,Y,Z}(x,y,z) = \begin{cases} k(x+y)e^{-z} & 0 < x < 1, 0 < y < 2, z > 0 \\ 0 & \text{سایر نقاط} \end{cases}$$

الف- مقدار  $k$  را تعیین کنید و  $P(X < Y, Z > 1)$  را محاسبه کنید.

ب- نشان دهید که هر سه متغیر  $X, Y, Z$  از یکدیگر مستقل نیستند اما  $Z$  از  $X$  و  $Z$  از  $Y$  مستقل می‌باشند و  $X$  از  $Y$  مستقل نمی‌باشد.

$$\text{حل الف-} \quad 1 = \int_0^1 \int_0^2 \int_0^{+\infty} k(x+y)e^{-z} dz dy dx = k \int_0^1 \int_0^2 (x+y) [-e^{-z}]_0^{+\infty} dy dx$$

$$= k \int_0^1 \int_0^2 (x+y) dy dx = k \int_0^1 [xy + \frac{1}{2}y^2]_0^2 dx = k \int_0^1 [2x + 2] dx$$

$$= k [x^2 + 2x]_0^1 = k(3)$$

$$\text{بنابراین } k = \frac{1}{3}$$

$$P(X < Y, Z > 1) = \int_0^1 \int_x^2 \int_1^{+\infty} \frac{1}{3}(x+y)e^{-z} dz dy dx$$

$$= \int_0^1 \int_x^2 \frac{1}{3}(x+y) [-e^{-z}]_1^{+\infty} dy dx$$

$$= \frac{1}{3}e^{-1} \int_0^1 \int_x^2 (x+y) dy dx = \frac{1}{3}e^{-1} \int_0^1 [xy + \frac{1}{2}y^2]_x^2 dx$$

$$= \frac{1}{3}e^{-1} \int_0^1 (2x + 2 - \frac{3}{2}x^2) dx = \frac{1}{3}e^{-1} (\frac{5}{2}) = \frac{5}{6}e^{-1} = 0.307$$

$$f_{X,Z}(x,z) = \int_0^2 \frac{1}{3}(x+y)e^{-z} dy = \frac{1}{3}e^{-z} [xy + \frac{1}{2}y^2]_0^2 = \frac{2x+2}{3}e^{-z} \quad \text{ب-}$$

$$0 < x < 1, z > 0$$

$$f_X(x) = \int_0^{+\infty} \frac{2x+2}{3}e^{-z} dz = \frac{2x+2}{3} \quad 0 < x < 1$$

$$f_Z(z) = \int_0^1 \frac{2x+2}{3}e^{-z} dx = e^{-z} \left[ \frac{x^2+2x}{3} \right]_0^1 = e^{-z} \quad z > 0$$

به همین ترتیب به سادگی به دست می‌آوریم که

$$f_{Y,Z}(y,z) = \frac{y+1}{3}e^{-z} \quad 0 < y < 2, z > 0$$

$$f_Y(y) = \frac{2y + 1}{6} \quad 0 < y < 2$$

$$f_{X,Y}(x,y) = \frac{x+y}{3} \quad 0 < x < 1, \quad 0 < y < 2$$

بنابراین  $f_{X,Y,Z}(x,y,z) \neq f_X(x)f_Y(y)f_Z(z)$  پس  $X$  و  $Y$  و  $Z$  از یکدیگر مستقل نیستند  
 اما  $f_{X,Z}(x,z) = f_X(x)f_Z(z)$  و  $f_{Y,Z}(y,z) = f_Y(y)f_Z(z)$  پس  $X$  و  $Z$  و  
 همچنین  $Y$  و  $Z$  از یکدیگر مستقل هستند و  $f_{X,Y}(x,y) \neq f_X(x)f_Y(y)$  یعنی  $X$  و  
 $Y$  از یکدیگر مستقل نیستند.

### ۷.۳ تمرینات

۱ یک تاس سالم را آنقدر پرتاب می‌کنیم تا برای اولین بار عدد ۶ بیاید

الف- اگر  $A$  پیشامد مشاهده عدد ۶ و  $B$  پیشامد مشاهده عدد غیر از ۶ باشد، فضای نمونه و احتمال هر پیشامد ساده را پیدا کنید.

ب- فرض کنید  $X$  شماره پرتابهای لازم برای مشاهده اولین ۶ باشد.  $S_X$  را پیدا کنید. آیا  $X$  گسسته است؟

ج- تابع احتمال و تابع توزیع  $X$  را به دست آورید و احتمال اینکه  $X$  مضرب ۳ باشد را بیابید.

۲ سکه سالمی را سه مرتبه پرتاب می‌کنیم. اگر متغیر تصادفی  $X$  را برابر تفاضل تعداد خطهای به دست آمده از تعداد شیرها در نظر بگیریم، تابع احتمال  $X$  را به دست آورید و  $P(X > -1)$  را محاسبه کنید.

۳ محموله‌ای شامل ۵ پروژکتور است که دوتای آن آسیب دیده است. به طور تصادفی ۳ پروژکتور این محموله خریداری می‌شود. اگر تعداد پروژکتورهای آسیب دیده که خریداری شده‌اند را با متغیر تصادفی  $X$  نشان دهیم، تابع احتمال و تابع توزیع  $X$  را به دست آورید.

۴ کدامیک از توابع زیر می‌توانند تابع احتمال یک متغیر تصادفی گسسته  $X$  باشند؟ چرا؟

الف -  $f_X(x) = \frac{x}{15} \quad x = 0, 1, 2, 3, 4, 5$